

Im Zahlenbereich bis max. 1000.

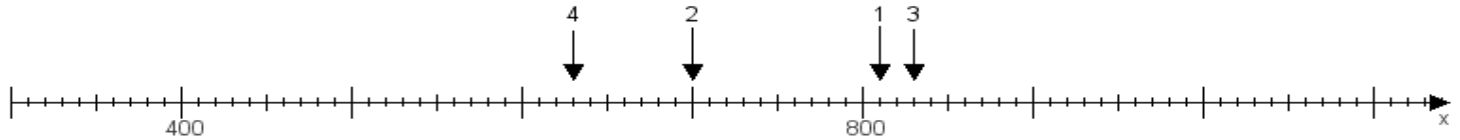
Name:

Klasse:

Datum:

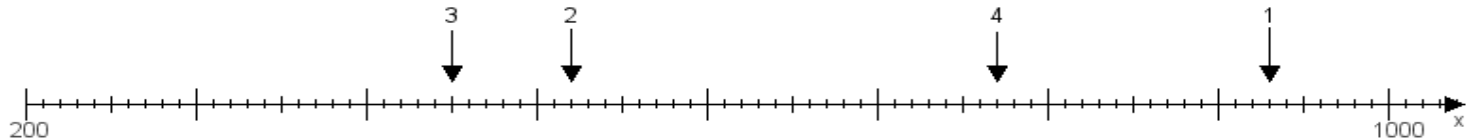
Aufgabe 1:

Ermittle die Werte von den Punkten 1 bis 4.



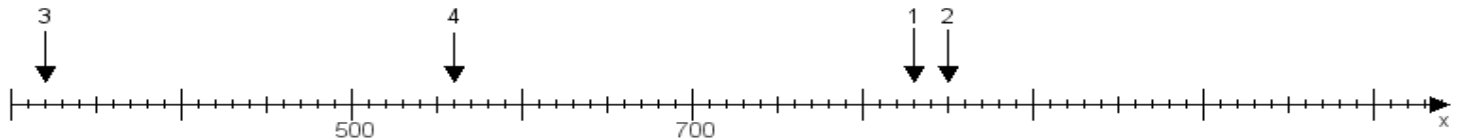
Aufgabe 2:

Ermittle die Werte von den Punkten 1 bis 4.



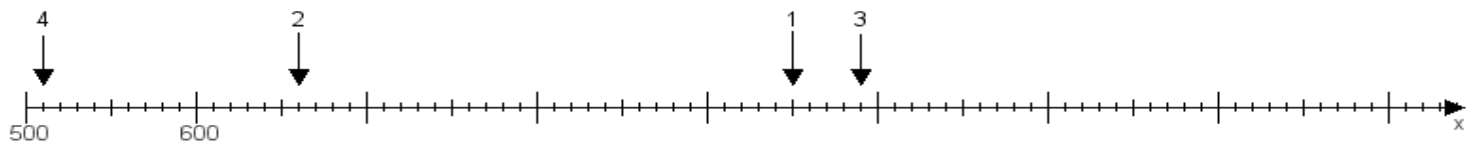
Aufgabe 3:

Ermittle die Werte von den Punkten 1 bis 4.



Aufgabe 4:

Ermittle die Werte von den Punkten 1 bis 4.



www.das-bastelteam.de -> Zahlenstrahl mit 4 Punkten. Blatt Nr.:98
Lösungen:

Aufgabe 1: Punkt 1 = 810, Punkt 2 = 700, Punkt 3 = 830, Punkt 4 = 630,

Aufgabe 2: Punkt 1 = 930, Punkt 2 = 520, Punkt 3 = 450, Punkt 4 = 770,

Aufgabe 3: Punkt 1 = 830, Punkt 2 = 850, Punkt 3 = 320, Punkt 4 = 560,

Aufgabe 4: Punkt 1 = 950, Punkt 2 = 660, Punkt 3 = 990, Punkt 4 = 510,