

Im Zahlenbereich bis max. 1000.

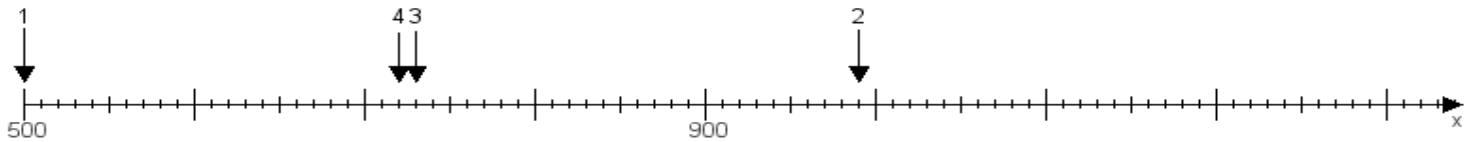
Name:

Klasse:

Datum:

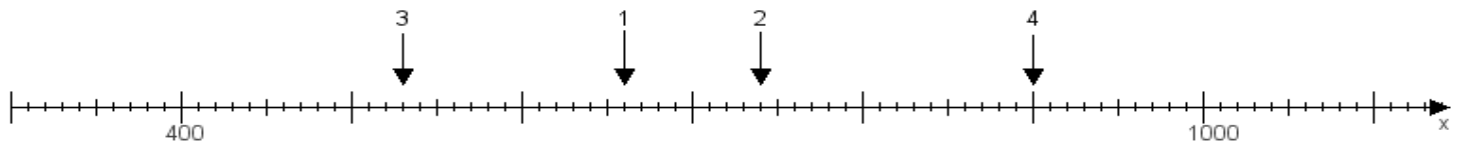
Aufgabe 1:

Ermittle die Werte von den Punkten 1 bis 4.



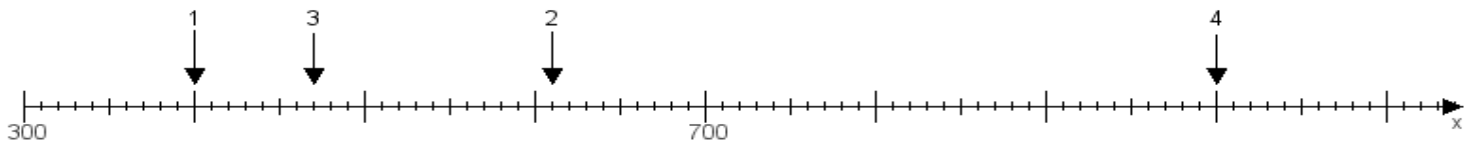
Aufgabe 2:

Ermittle die Werte von den Punkten 1 bis 4.



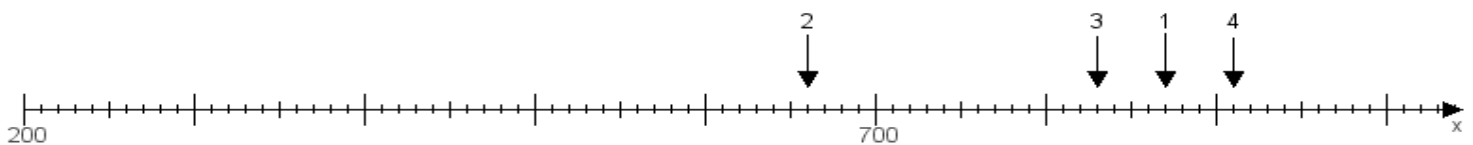
Aufgabe 3:

Ermittle die Werte von den Punkten 1 bis 4.



Aufgabe 4:

Ermittle die Werte von den Punkten 1 bis 4.



www.das-bastelteam.de -> Zahlenstrahl mit 4 Punkten. Blatt Nr.:97
Lösungen:

Aufgabe 1: Punkt 1 = 500, Punkt 2 = 990, Punkt 3 = 730, Punkt 4 = 720,

Aufgabe 2: Punkt 1 = 660, Punkt 2 = 740, Punkt 3 = 530, Punkt 4 = 900,

Aufgabe 3: Punkt 1 = 400, Punkt 2 = 610, Punkt 3 = 470, Punkt 4 = 1000,

Aufgabe 4: Punkt 1 = 870, Punkt 2 = 660, Punkt 3 = 830, Punkt 4 = 910,