

Im Zahlenbereich bis max. 1000.

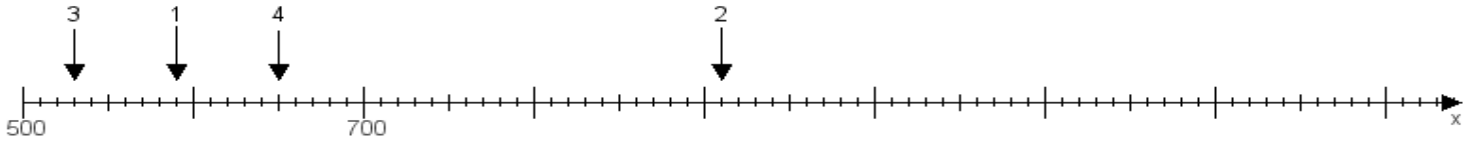
Name:

Klasse:

Datum:

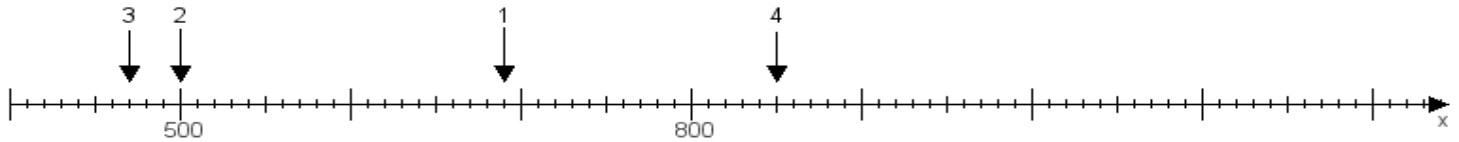
Aufgabe 1:

Ermittle die Werte von den Punkten 1 bis 4.



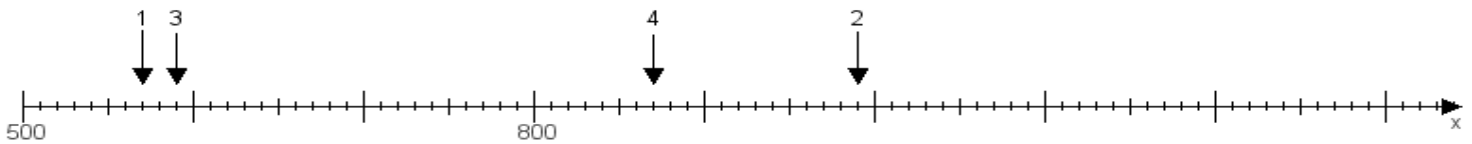
Aufgabe 2:

Ermittle die Werte von den Punkten 1 bis 4.



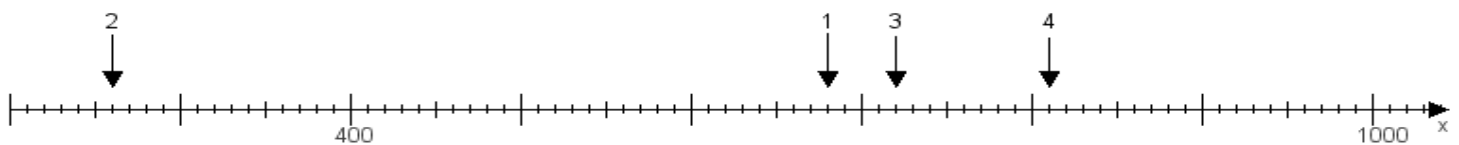
Aufgabe 3:

Ermittle die Werte von den Punkten 1 bis 4.



Aufgabe 4:

Ermittle die Werte von den Punkten 1 bis 4.



www.das-bastelteam.de -> Zahlenstrahl mit 4 Punkten. Blatt Nr.:96
Lösungen:

Aufgabe 1: Punkt 1 = 590, Punkt 2 = 910, Punkt 3 = 530, Punkt 4 = 650,

Aufgabe 2: Punkt 1 = 690, Punkt 2 = 500, Punkt 3 = 470, Punkt 4 = 850,

Aufgabe 3: Punkt 1 = 570, Punkt 2 = 990, Punkt 3 = 590, Punkt 4 = 870,

Aufgabe 4: Punkt 1 = 680, Punkt 2 = 260, Punkt 3 = 720, Punkt 4 = 810,

www.bin-dann-weg.de -> Ferienwohnungen und Ferienhäuser.

www.kleinanzeigen-und-annoncen.de -> Kostenlose Kleinanzeigen deutschlandweit.