

Im Zahlenbereich bis max. 1000.

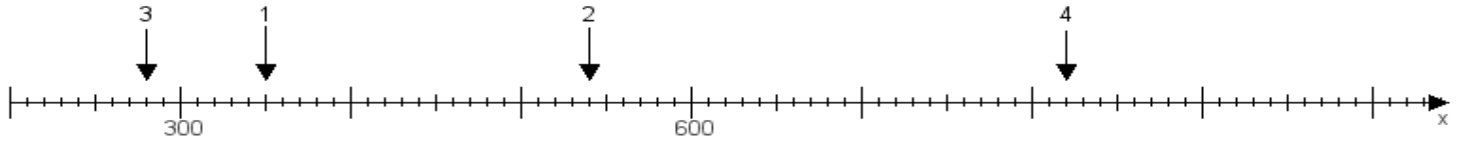
Name:

Klasse:

Datum:

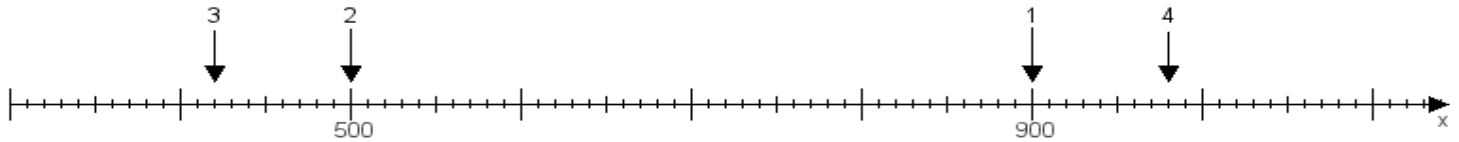
**Aufgabe 1:**

Ermittle die Werte von den Punkten 1 bis 4.



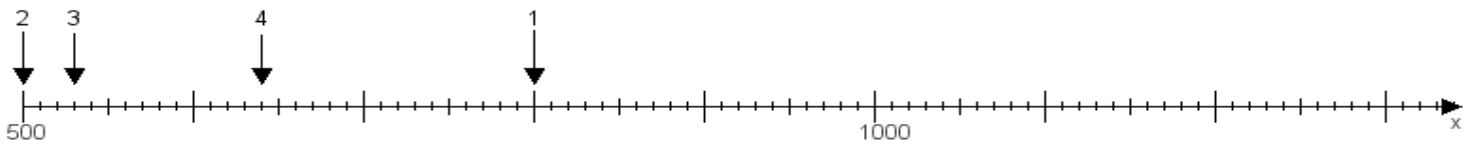
**Aufgabe 2:**

Ermittle die Werte von den Punkten 1 bis 4.



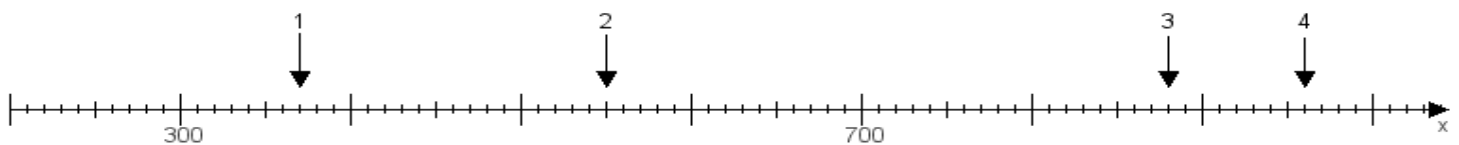
**Aufgabe 3:**

Ermittle die Werte von den Punkten 1 bis 4.



**Aufgabe 4:**

Ermittle die Werte von den Punkten 1 bis 4.



[www.das-bastelteam.de](http://www.das-bastelteam.de) -> Zahlenstrahl mit 4 Punkten. Blatt Nr.:93  
Lösungen:

Aufgabe 1: Punkt 1 = 350, Punkt 2 = 540, Punkt 3 = 280, Punkt 4 = 820,

Aufgabe 2: Punkt 1 = 900, Punkt 2 = 500, Punkt 3 = 420, Punkt 4 = 980,

Aufgabe 3: Punkt 1 = 800, Punkt 2 = 500, Punkt 3 = 530, Punkt 4 = 640,

Aufgabe 4: Punkt 1 = 370, Punkt 2 = 550, Punkt 3 = 880, Punkt 4 = 960,

[www.bin-dann-weg.de](http://www.bin-dann-weg.de) -> Ferienwohnungen und Ferienhäuser.

[www.kleinanzeigen-und-annoncen.de](http://www.kleinanzeigen-und-annoncen.de) -> Kostenlose Kleinanzeigen deutschlandweit.