

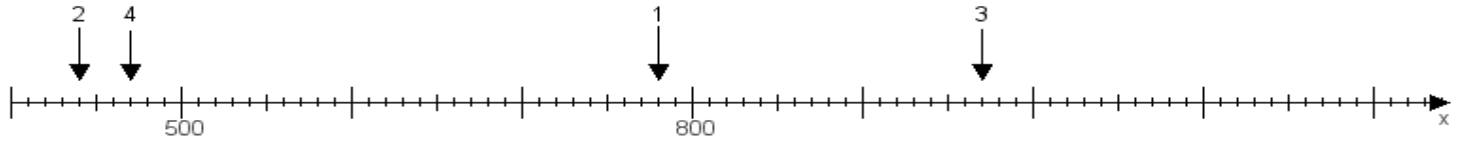
Name:

Klasse:

Datum:

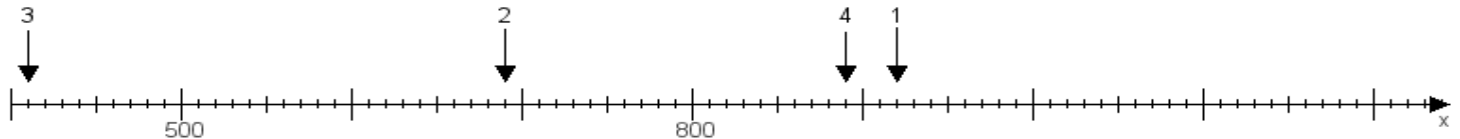
Aufgabe 1:

Ermittle die Werte von den Punkten 1 bis 4.



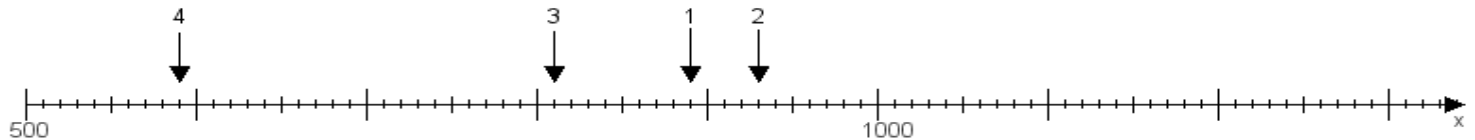
Aufgabe 2:

Ermittle die Werte von den Punkten 1 bis 4.



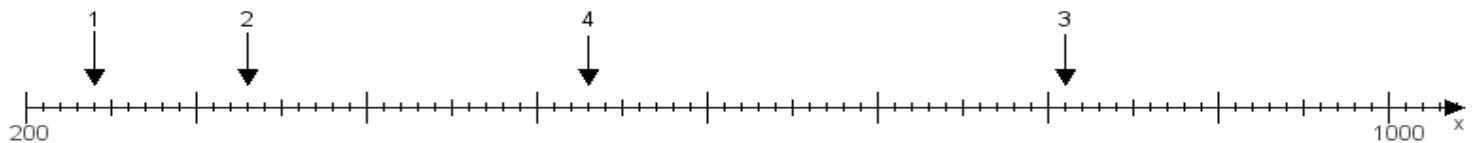
Aufgabe 3:

Ermittle die Werte von den Punkten 1 bis 4.



Aufgabe 4:

Ermittle die Werte von den Punkten 1 bis 4.



www.das-bastelteam.de -> Zahlenstrahl mit 4 Punkten. Blatt Nr.:92
Lösungen:

Aufgabe 1: Punkt 1 = 780, Punkt 2 = 440, Punkt 3 = 970, Punkt 4 = 470,

Aufgabe 2: Punkt 1 = 920, Punkt 2 = 690, Punkt 3 = 410, Punkt 4 = 890,

Aufgabe 3: Punkt 1 = 890, Punkt 2 = 930, Punkt 3 = 810, Punkt 4 = 590,

Aufgabe 4: Punkt 1 = 240, Punkt 2 = 330, Punkt 3 = 810, Punkt 4 = 530,