

Im Zahlenbereich bis max. 1000.

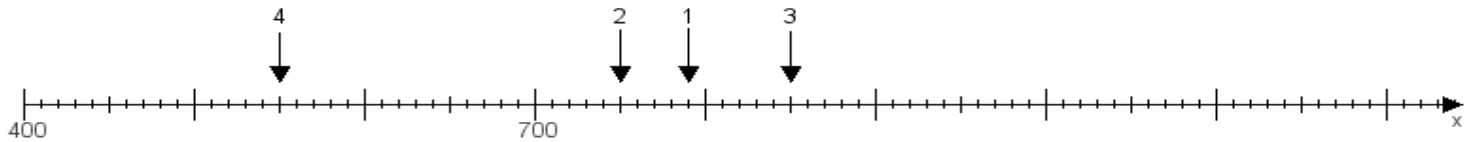
Name:

Klasse:

Datum:

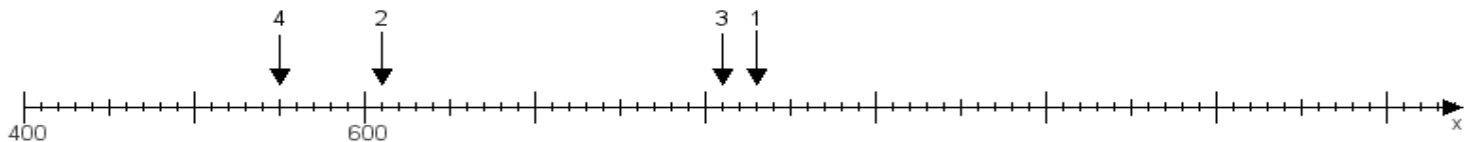
Aufgabe 1:

Ermittle die Werte von den Punkten 1 bis 4.



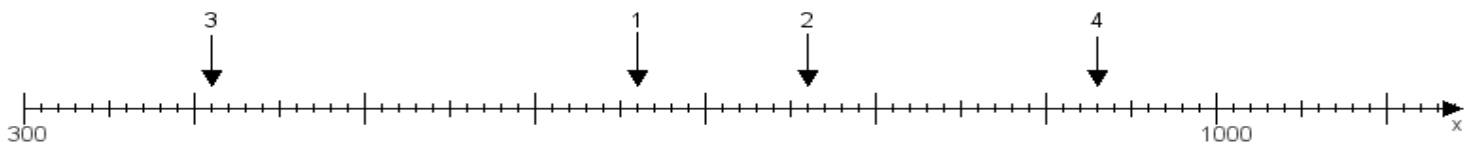
Aufgabe 2:

Ermittle die Werte von den Punkten 1 bis 4.



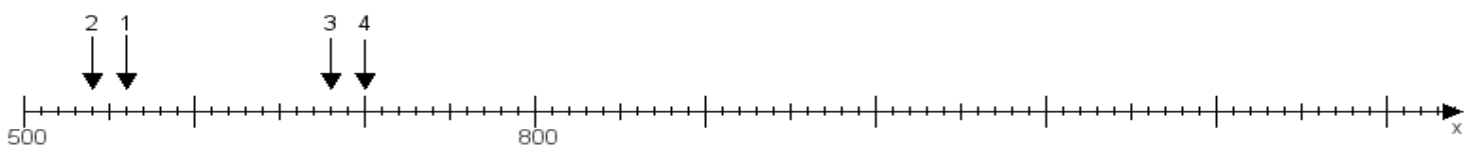
Aufgabe 3:

Ermittle die Werte von den Punkten 1 bis 4.



Aufgabe 4:

Ermittle die Werte von den Punkten 1 bis 4.



www.das-bastelteam.de -> Zahlenstrahl mit 4 Punkten. Blatt Nr.:91
Lösungen:

Aufgabe 1: Punkt 1 = 790, Punkt 2 = 750, Punkt 3 = 850, Punkt 4 = 550,

Aufgabe 2: Punkt 1 = 830, Punkt 2 = 610, Punkt 3 = 810, Punkt 4 = 550,

Aufgabe 3: Punkt 1 = 660, Punkt 2 = 760, Punkt 3 = 410, Punkt 4 = 930,

Aufgabe 4: Punkt 1 = 560, Punkt 2 = 540, Punkt 3 = 680, Punkt 4 = 700,