

Im Zahlenbereich bis max. 1000.

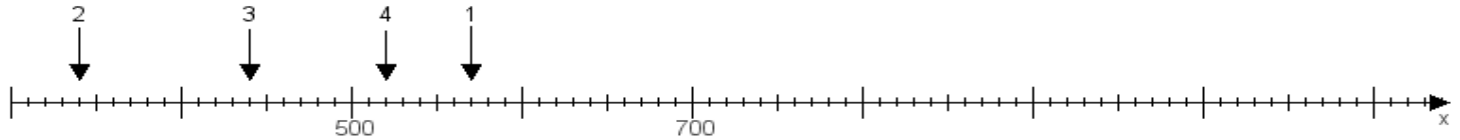
Name:

Klasse:

Datum:

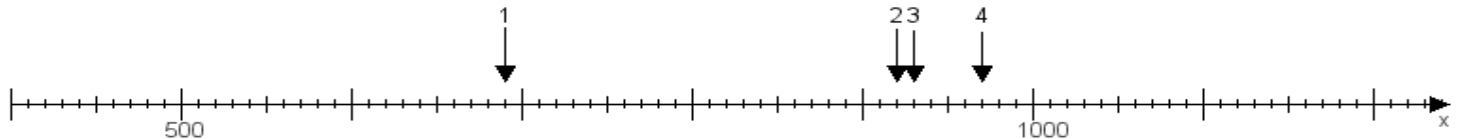
Aufgabe 1:

Ermittle die Werte von den Punkten 1 bis 4.



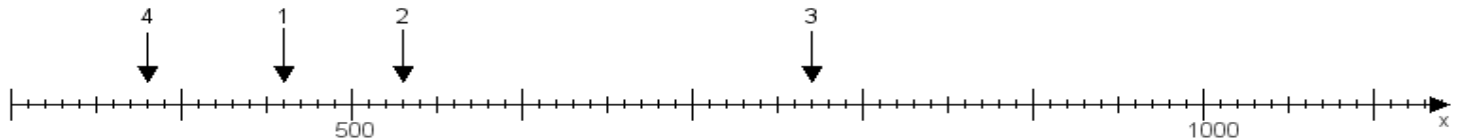
Aufgabe 2:

Ermittle die Werte von den Punkten 1 bis 4.



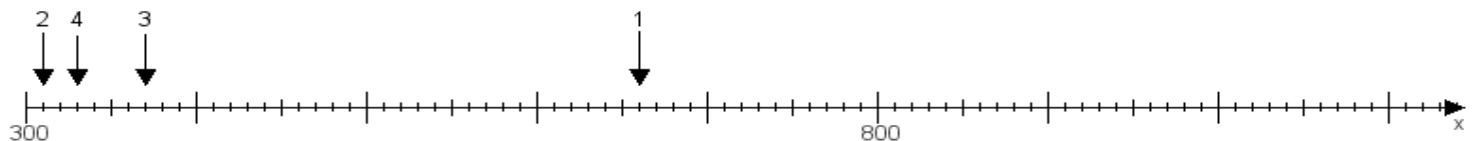
Aufgabe 3:

Ermittle die Werte von den Punkten 1 bis 4.



Aufgabe 4:

Ermittle die Werte von den Punkten 1 bis 4.



www.das-bastelteam.de -> Zahlenstrahl mit 4 Punkten. Blatt Nr.:90
Lösungen:

Aufgabe 1: Punkt 1 = 570, Punkt 2 = 340, Punkt 3 = 440, Punkt 4 = 520,

Aufgabe 2: Punkt 1 = 690, Punkt 2 = 920, Punkt 3 = 930, Punkt 4 = 970,

Aufgabe 3: Punkt 1 = 460, Punkt 2 = 530, Punkt 3 = 770, Punkt 4 = 380,

Aufgabe 4: Punkt 1 = 660, Punkt 2 = 310, Punkt 3 = 370, Punkt 4 = 330,