

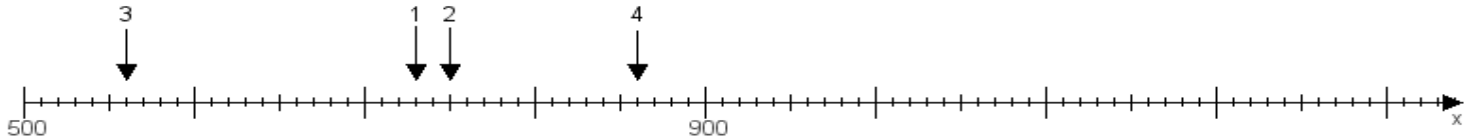
Name:

Klasse:

Datum:

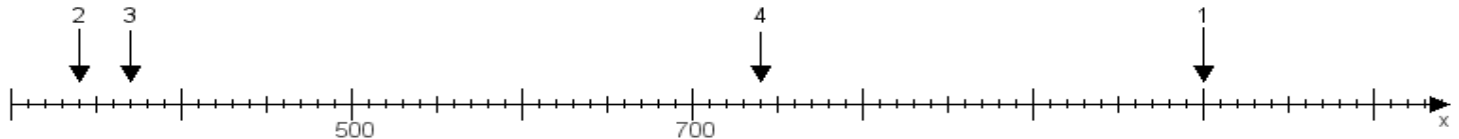
Aufgabe 1:

Ermittle die Werte von den Punkten 1 bis 4.



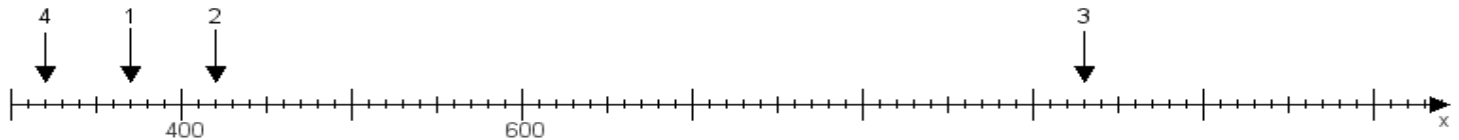
Aufgabe 2:

Ermittle die Werte von den Punkten 1 bis 4.



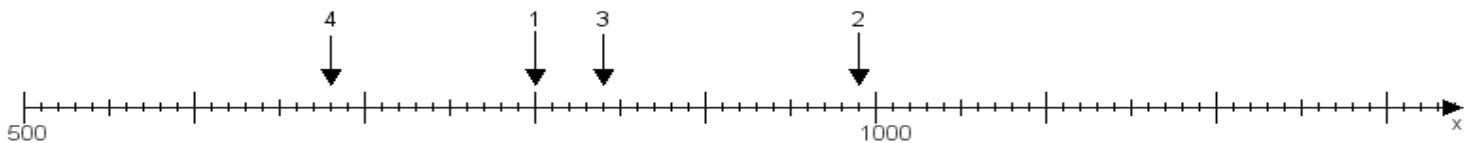
Aufgabe 3:

Ermittle die Werte von den Punkten 1 bis 4.



Aufgabe 4:

Ermittle die Werte von den Punkten 1 bis 4.



www.das-bastelteam.de -> Zahlenstrahl mit 4 Punkten. Blatt Nr.:8
Lösungen:

Aufgabe 1: Punkt 1 = 730, Punkt 2 = 750, Punkt 3 = 560, Punkt 4 = 860,

Aufgabe 2: Punkt 1 = 1000, Punkt 2 = 340, Punkt 3 = 370, Punkt 4 = 740,

Aufgabe 3: Punkt 1 = 370, Punkt 2 = 420, Punkt 3 = 930, Punkt 4 = 320,

Aufgabe 4: Punkt 1 = 800, Punkt 2 = 990, Punkt 3 = 840, Punkt 4 = 680,