

Im Zahlenbereich bis max. 1000.

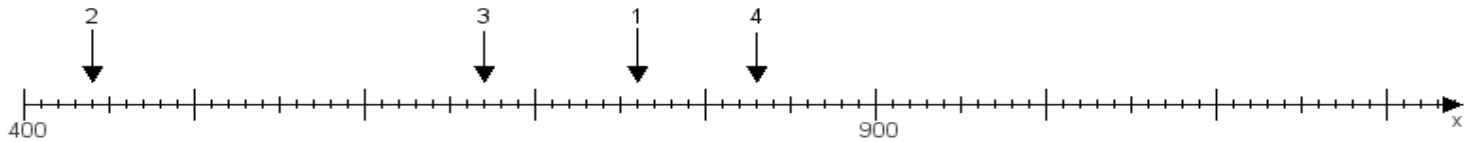
Name:

Klasse:

Datum:

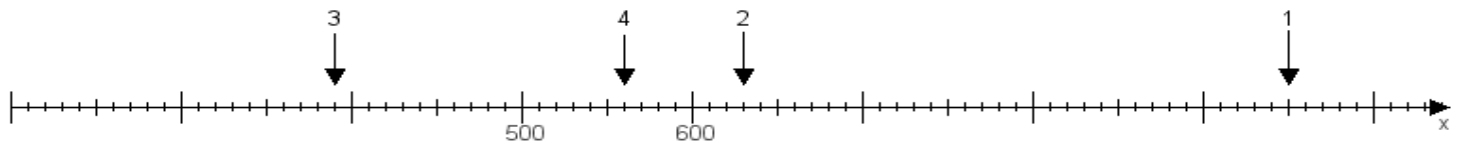
Aufgabe 1:

Ermittle die Werte von den Punkten 1 bis 4.



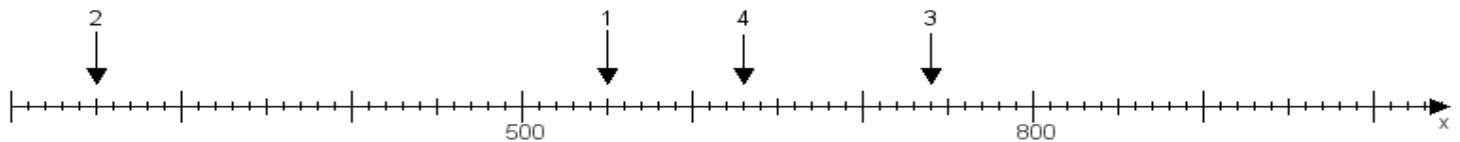
Aufgabe 2:

Ermittle die Werte von den Punkten 1 bis 4.



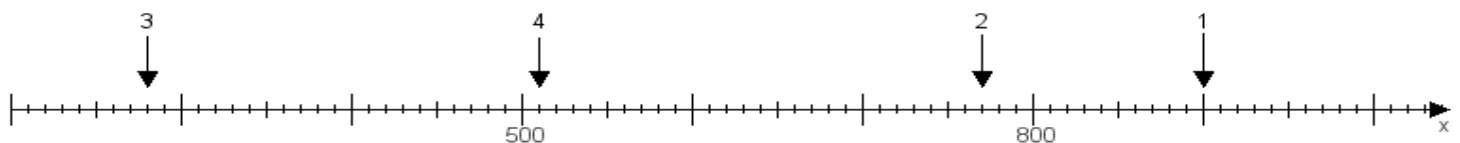
Aufgabe 3:

Ermittle die Werte von den Punkten 1 bis 4.



Aufgabe 4:

Ermittle die Werte von den Punkten 1 bis 4.



www.das-bastelteam.de -> Zahlenstrahl mit 4 Punkten. Blatt Nr.:85
Lösungen:

Aufgabe 1: Punkt 1 = 760, Punkt 2 = 440, Punkt 3 = 670, Punkt 4 = 830,

Aufgabe 2: Punkt 1 = 950, Punkt 2 = 630, Punkt 3 = 390, Punkt 4 = 560,

Aufgabe 3: Punkt 1 = 550, Punkt 2 = 250, Punkt 3 = 740, Punkt 4 = 630,

Aufgabe 4: Punkt 1 = 900, Punkt 2 = 770, Punkt 3 = 280, Punkt 4 = 510,