

Im Zahlenbereich bis max. 1000.

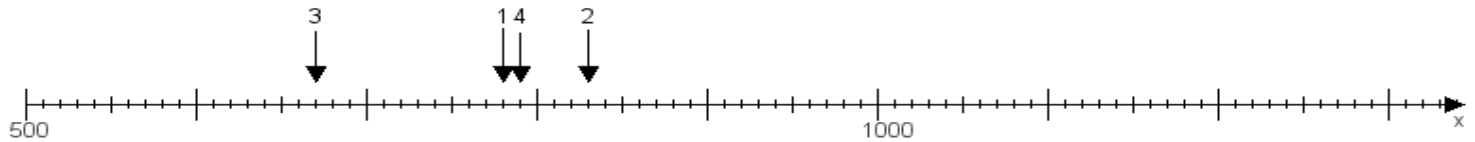
Name:

Klasse:

Datum:

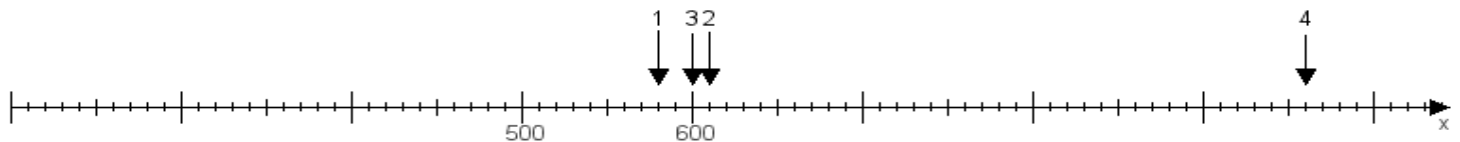
Aufgabe 1:

Ermittle die Werte von den Punkten 1 bis 4.



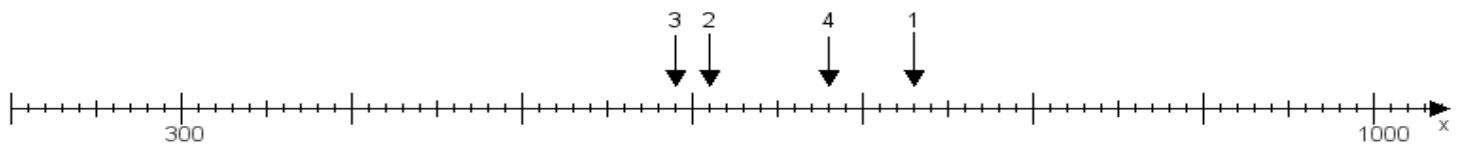
Aufgabe 2:

Ermittle die Werte von den Punkten 1 bis 4.



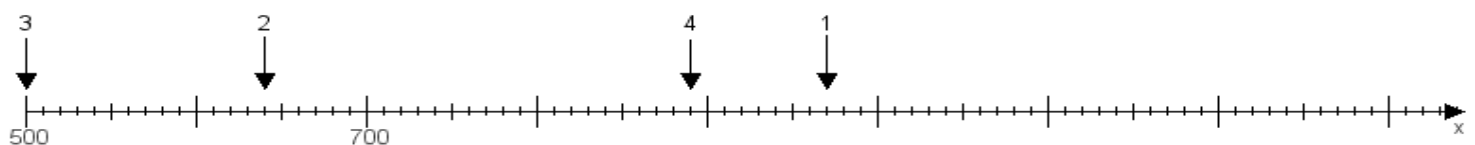
Aufgabe 3:

Ermittle die Werte von den Punkten 1 bis 4.



Aufgabe 4:

Ermittle die Werte von den Punkten 1 bis 4.



www.das-bastelteam.de -> Zahlenstrahl mit 4 Punkten. Blatt Nr.:80
Lösungen:

Aufgabe 1: Punkt 1 = 780, Punkt 2 = 830, Punkt 3 = 670, Punkt 4 = 790,

Aufgabe 2: Punkt 1 = 580, Punkt 2 = 610, Punkt 3 = 600, Punkt 4 = 960,

Aufgabe 3: Punkt 1 = 730, Punkt 2 = 610, Punkt 3 = 590, Punkt 4 = 680,

Aufgabe 4: Punkt 1 = 970, Punkt 2 = 640, Punkt 3 = 500, Punkt 4 = 890,