

Im Zahlenbereich bis max. 1000.

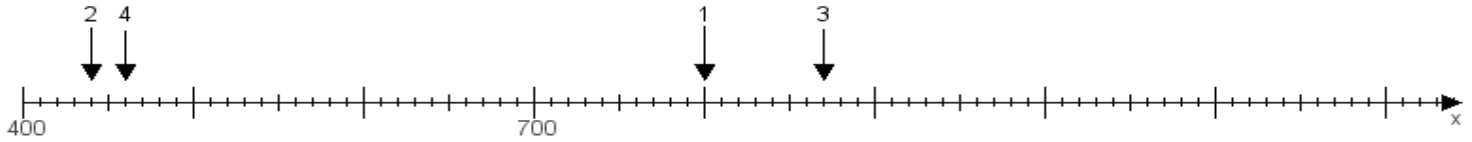
Name:

Klasse:

Datum:

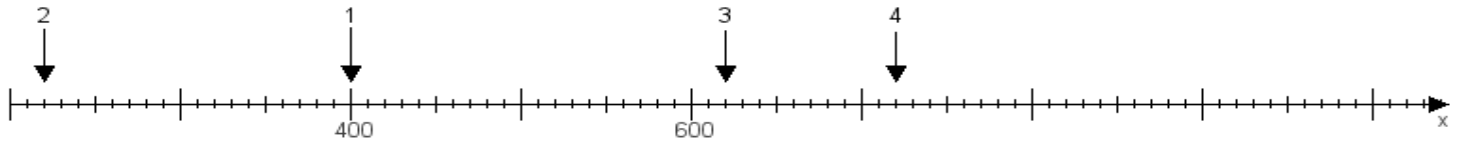
Aufgabe 1:

Ermittle die Werte von den Punkten 1 bis 4.



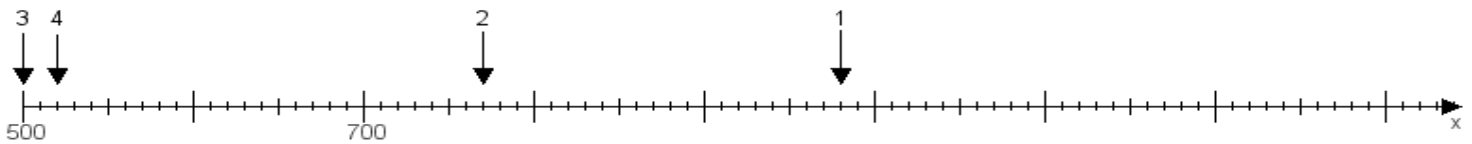
Aufgabe 2:

Ermittle die Werte von den Punkten 1 bis 4.



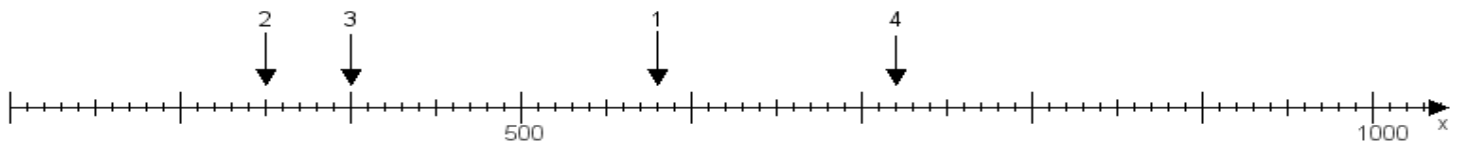
Aufgabe 3:

Ermittle die Werte von den Punkten 1 bis 4.



Aufgabe 4:

Ermittle die Werte von den Punkten 1 bis 4.



www.das-bastelteam.de -> Zahlenstrahl mit 4 Punkten. Blatt Nr.:7
Lösungen:

Aufgabe 1: Punkt 1 = 800, Punkt 2 = 440, Punkt 3 = 870, Punkt 4 = 460,

Aufgabe 2: Punkt 1 = 400, Punkt 2 = 220, Punkt 3 = 620, Punkt 4 = 720,

Aufgabe 3: Punkt 1 = 980, Punkt 2 = 770, Punkt 3 = 500, Punkt 4 = 520,

Aufgabe 4: Punkt 1 = 580, Punkt 2 = 350, Punkt 3 = 400, Punkt 4 = 720,

www.bin-dann-weg.de -> Ferienwohnungen und Ferienhäuser.

www.kleinanzeigen-und-annoncen.de -> Kostenlose Kleinanzeigen deutschlandweit.