

Im Zahlenbereich bis max. 1000.

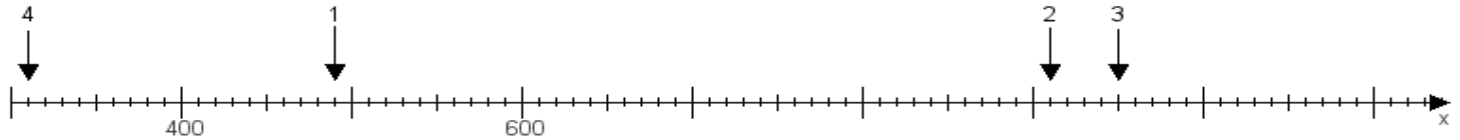
Name:

Klasse:

Datum:

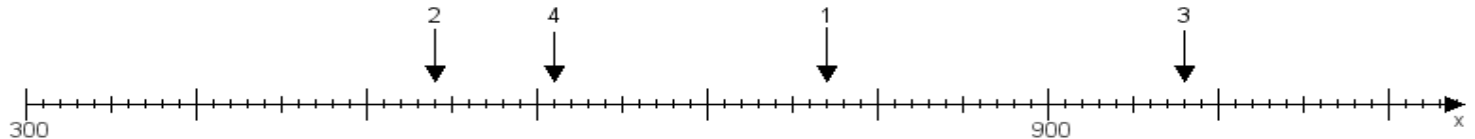
Aufgabe 1:

Ermittle die Werte von den Punkten 1 bis 4.



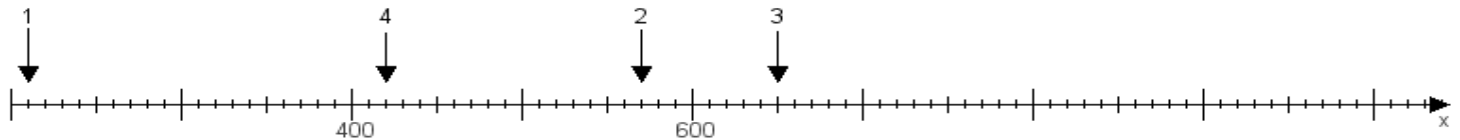
Aufgabe 2:

Ermittle die Werte von den Punkten 1 bis 4.



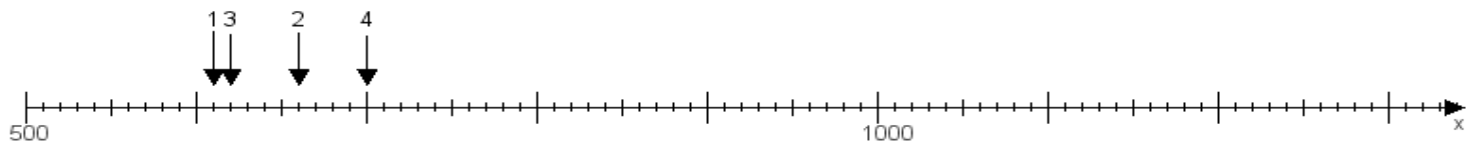
Aufgabe 3:

Ermittle die Werte von den Punkten 1 bis 4.



Aufgabe 4:

Ermittle die Werte von den Punkten 1 bis 4.



www.das-bastelteam.de -> Zahlenstrahl mit 4 Punkten. Blatt Nr.:75
Lösungen:

Aufgabe 1: Punkt 1 = 490, Punkt 2 = 910, Punkt 3 = 950, Punkt 4 = 310,

Aufgabe 2: Punkt 1 = 770, Punkt 2 = 540, Punkt 3 = 980, Punkt 4 = 610,

Aufgabe 3: Punkt 1 = 210, Punkt 2 = 570, Punkt 3 = 650, Punkt 4 = 420,

Aufgabe 4: Punkt 1 = 610, Punkt 2 = 660, Punkt 3 = 620, Punkt 4 = 700,