

Im Zahlenbereich bis max. 1000.

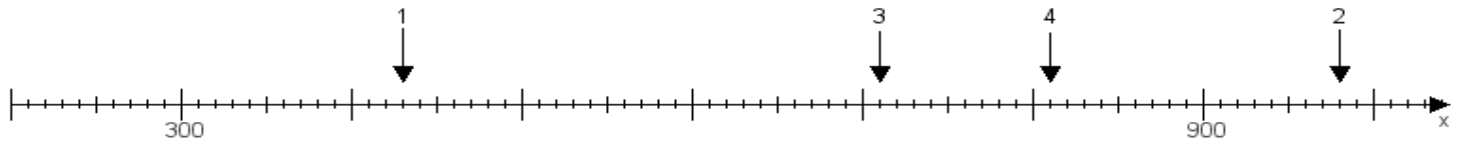
Name:

Klasse:

Datum:

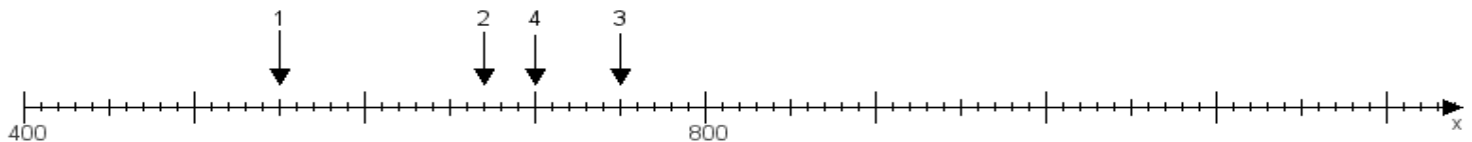
**Aufgabe 1:**

Ermittle die Werte von den Punkten 1 bis 4.



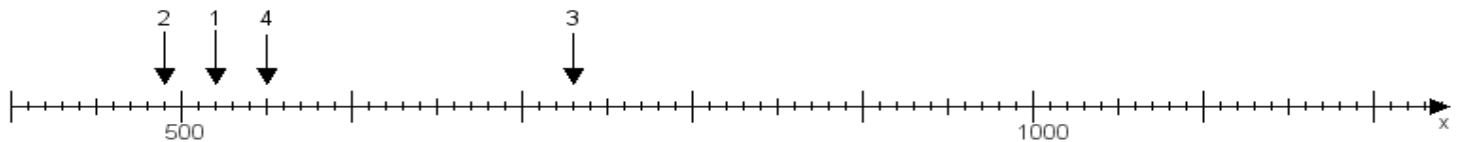
**Aufgabe 2:**

Ermittle die Werte von den Punkten 1 bis 4.



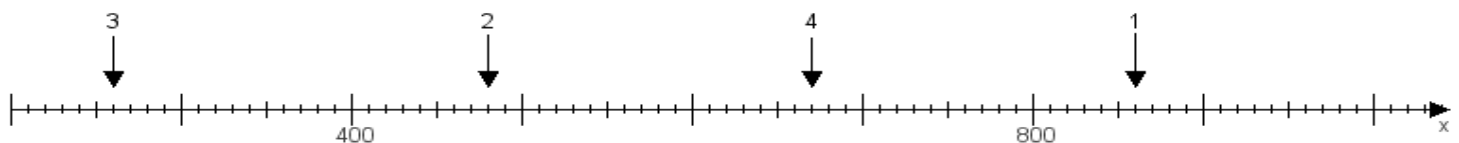
**Aufgabe 3:**

Ermittle die Werte von den Punkten 1 bis 4.



**Aufgabe 4:**

Ermittle die Werte von den Punkten 1 bis 4.



[www.das-bastelteam.de](http://www.das-bastelteam.de) -> Zahlenstrahl mit 4 Punkten. Blatt Nr.:71  
Lösungen:

Aufgabe 1: Punkt 1 = 430, Punkt 2 = 980, Punkt 3 = 710, Punkt 4 = 810,

Aufgabe 2: Punkt 1 = 550, Punkt 2 = 670, Punkt 3 = 750, Punkt 4 = 700,

Aufgabe 3: Punkt 1 = 520, Punkt 2 = 490, Punkt 3 = 730, Punkt 4 = 550,

Aufgabe 4: Punkt 1 = 860, Punkt 2 = 480, Punkt 3 = 260, Punkt 4 = 670,