

Im Zahlenbereich bis max. 1000.

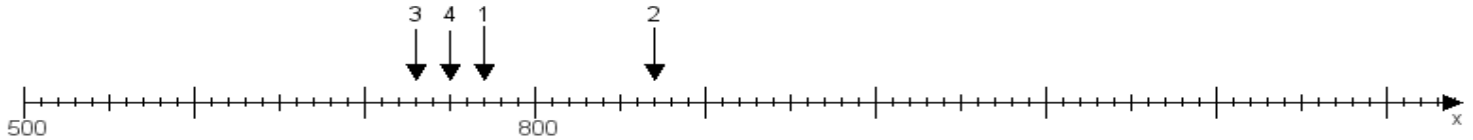
Name:

Klasse:

Datum:

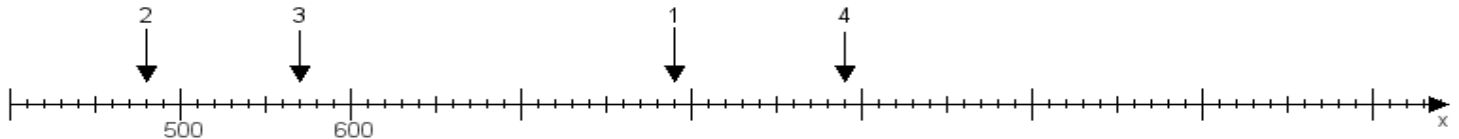
Aufgabe 1:

Ermittle die Werte von den Punkten 1 bis 4.



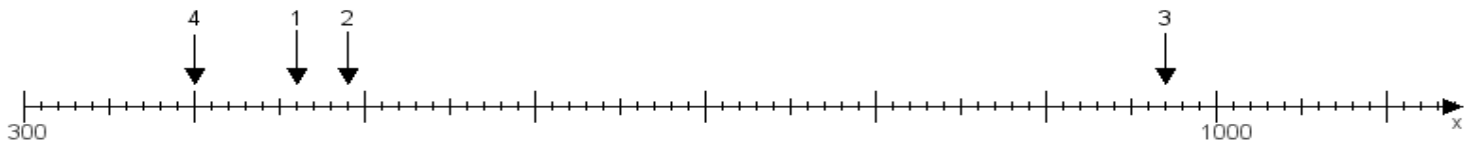
Aufgabe 2:

Ermittle die Werte von den Punkten 1 bis 4.



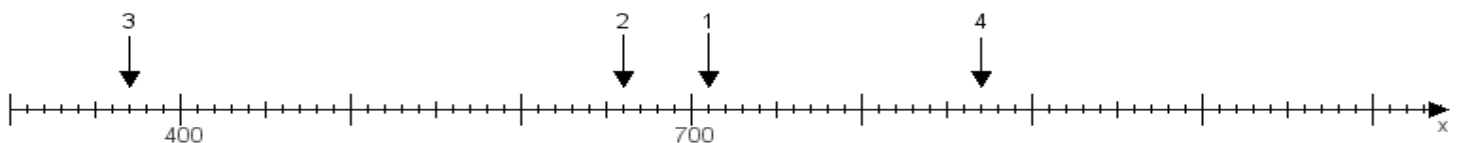
Aufgabe 3:

Ermittle die Werte von den Punkten 1 bis 4.



Aufgabe 4:

Ermittle die Werte von den Punkten 1 bis 4.



www.das-bastelteam.de -> Zahlenstrahl mit 4 Punkten. Blatt Nr.:6
Lösungen:

Aufgabe 1: Punkt 1 = 770, Punkt 2 = 870, Punkt 3 = 730, Punkt 4 = 750,

Aufgabe 2: Punkt 1 = 790, Punkt 2 = 480, Punkt 3 = 570, Punkt 4 = 890,

Aufgabe 3: Punkt 1 = 460, Punkt 2 = 490, Punkt 3 = 970, Punkt 4 = 400,

Aufgabe 4: Punkt 1 = 710, Punkt 2 = 660, Punkt 3 = 370, Punkt 4 = 870,

www.bin-dann-weg.de -> Ferienwohnungen und Ferienhäuser.

www.kleinanzeigen-und-annoncen.de -> Kostenlose Kleinanzeigen deutschlandweit.