

Im Zahlenbereich bis max. 1000.

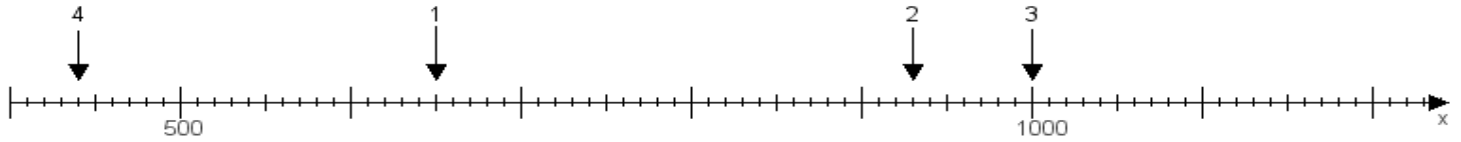
Name:

Klasse:

Datum:

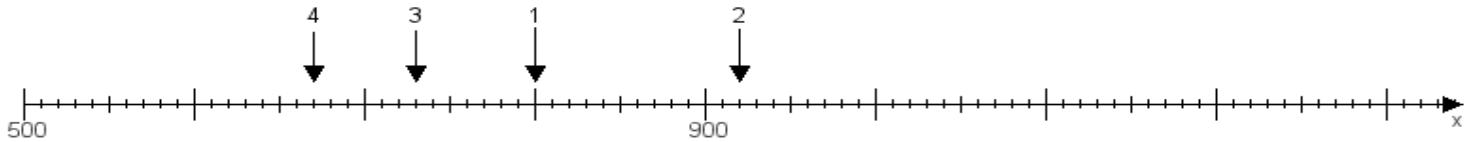
Aufgabe 1:

Ermittle die Werte von den Punkten 1 bis 4.



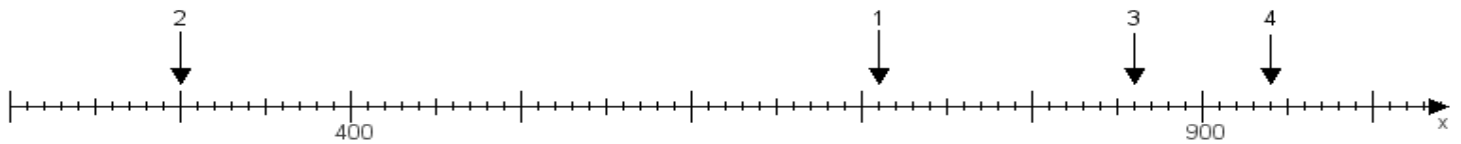
Aufgabe 2:

Ermittle die Werte von den Punkten 1 bis 4.



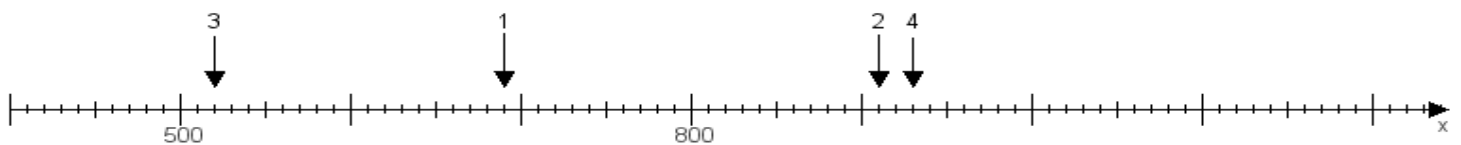
Aufgabe 3:

Ermittle die Werte von den Punkten 1 bis 4.



Aufgabe 4:

Ermittle die Werte von den Punkten 1 bis 4.



www.das-bastelteam.de -> Zahlenstrahl mit 4 Punkten. Blatt Nr.:69
Lösungen:

Aufgabe 1: Punkt 1 = 650, Punkt 2 = 930, Punkt 3 = 1000, Punkt 4 = 440,

Aufgabe 2: Punkt 1 = 800, Punkt 2 = 920, Punkt 3 = 730, Punkt 4 = 670,

Aufgabe 3: Punkt 1 = 710, Punkt 2 = 300, Punkt 3 = 860, Punkt 4 = 940,

Aufgabe 4: Punkt 1 = 690, Punkt 2 = 910, Punkt 3 = 520, Punkt 4 = 930,