

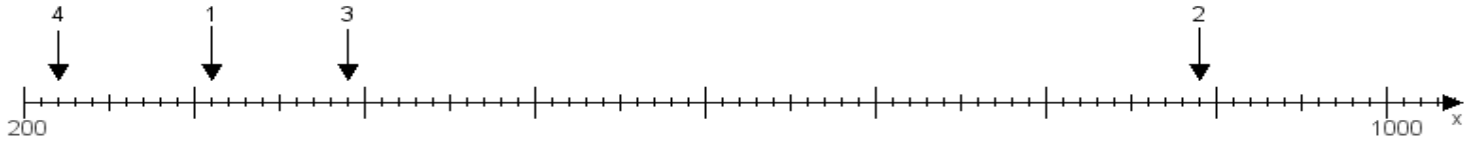
Name:

Klasse:

Datum:

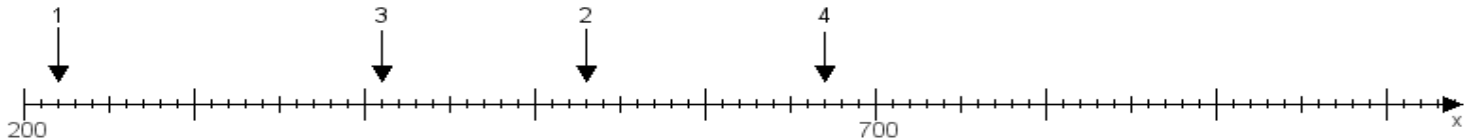
Aufgabe 1:

Ermittle die Werte von den Punkten 1 bis 4.



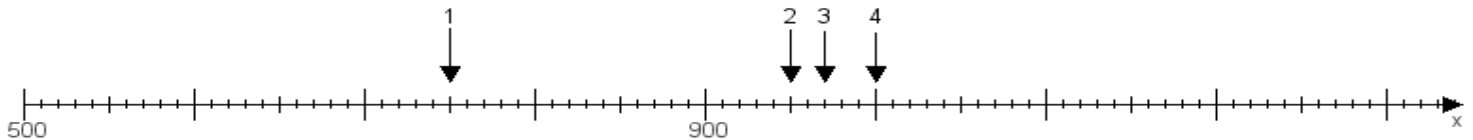
Aufgabe 2:

Ermittle die Werte von den Punkten 1 bis 4.



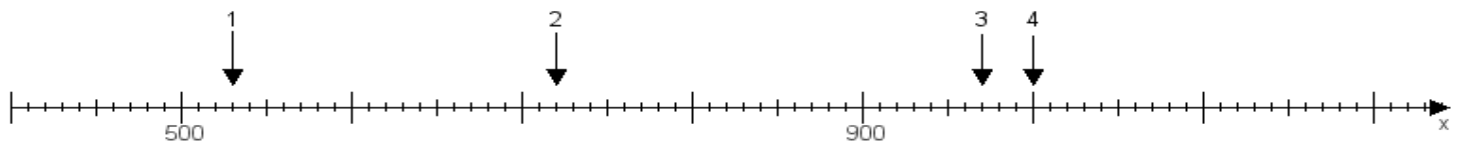
Aufgabe 3:

Ermittle die Werte von den Punkten 1 bis 4.



Aufgabe 4:

Ermittle die Werte von den Punkten 1 bis 4.



www.das-bastelteam.de -> Zahlenstrahl mit 4 Punkten. Blatt Nr.:67
Lösungen:

Aufgabe 1: Punkt 1 = 310, Punkt 2 = 890, Punkt 3 = 390, Punkt 4 = 220,

Aufgabe 2: Punkt 1 = 220, Punkt 2 = 530, Punkt 3 = 410, Punkt 4 = 670,

Aufgabe 3: Punkt 1 = 750, Punkt 2 = 950, Punkt 3 = 970, Punkt 4 = 1000,

Aufgabe 4: Punkt 1 = 530, Punkt 2 = 720, Punkt 3 = 970, Punkt 4 = 1000,