

Im Zahlenbereich bis max. 1000.

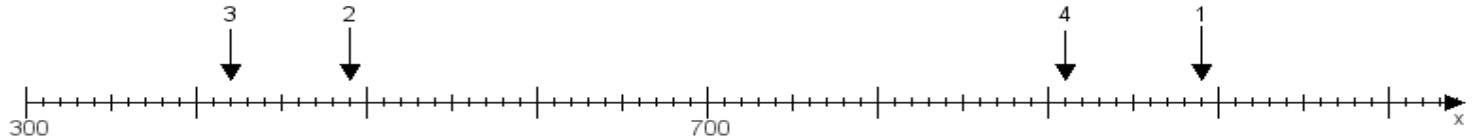
Name:

Klasse:

Datum:

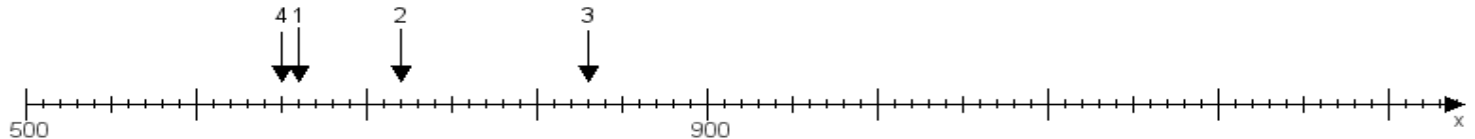
**Aufgabe 1:**

Ermittle die Werte von den Punkten 1 bis 4.



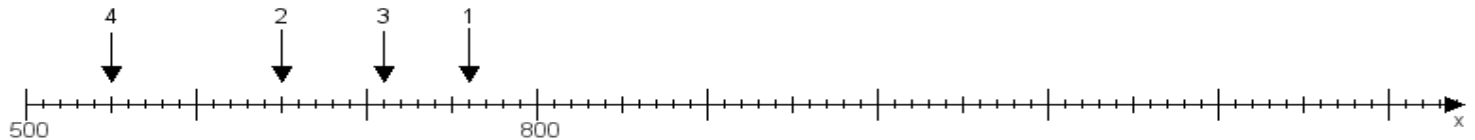
**Aufgabe 2:**

Ermittle die Werte von den Punkten 1 bis 4.



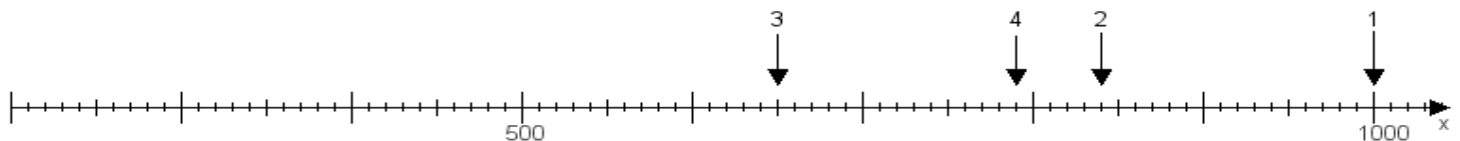
**Aufgabe 3:**

Ermittle die Werte von den Punkten 1 bis 4.



**Aufgabe 4:**

Ermittle die Werte von den Punkten 1 bis 4.



[www.das-bastelteam.de](http://www.das-bastelteam.de) -> Zahlenstrahl mit 4 Punkten. Blatt Nr.:66  
Lösungen:

Aufgabe 1: Punkt 1 = 990, Punkt 2 = 490, Punkt 3 = 420, Punkt 4 = 910,

Aufgabe 2: Punkt 1 = 660, Punkt 2 = 720, Punkt 3 = 830, Punkt 4 = 650,

Aufgabe 3: Punkt 1 = 760, Punkt 2 = 650, Punkt 3 = 710, Punkt 4 = 550,

Aufgabe 4: Punkt 1 = 1000, Punkt 2 = 840, Punkt 3 = 650, Punkt 4 = 790,