

Im Zahlenbereich bis max. 1000.

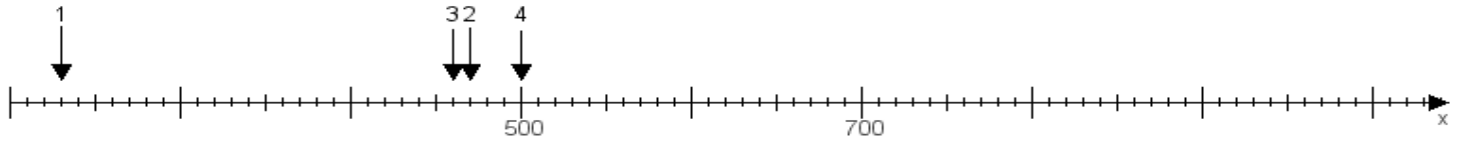
Name:

Klasse:

Datum:

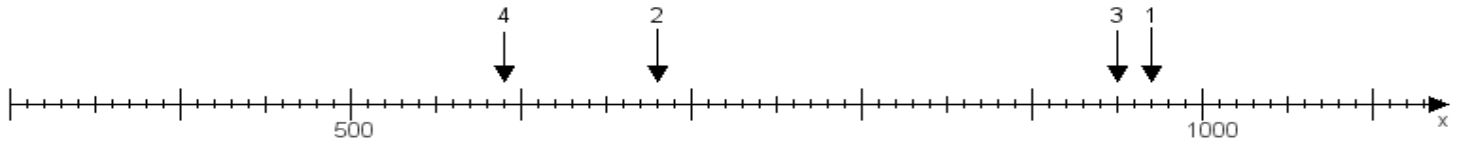
Aufgabe 1:

Ermittle die Werte von den Punkten 1 bis 4.



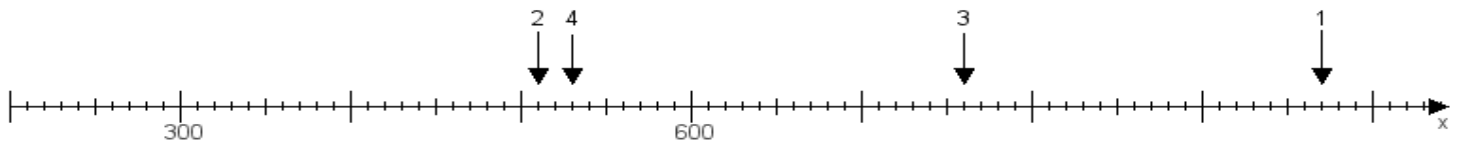
Aufgabe 2:

Ermittle die Werte von den Punkten 1 bis 4.



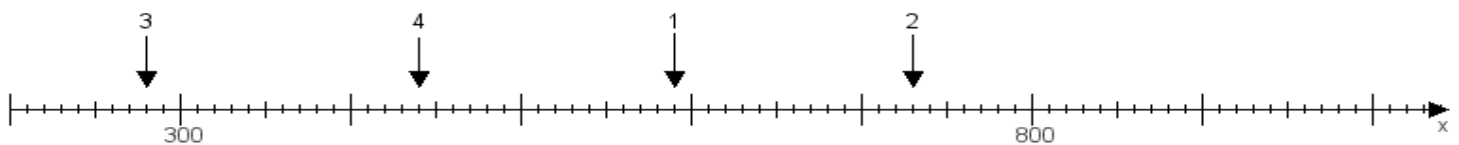
Aufgabe 3:

Ermittle die Werte von den Punkten 1 bis 4.



Aufgabe 4:

Ermittle die Werte von den Punkten 1 bis 4.



www.das-bastelteam.de -> Zahlenstrahl mit 4 Punkten. Blatt Nr.:61
Lösungen:

Aufgabe 1: Punkt 1 = 230, Punkt 2 = 470, Punkt 3 = 460, Punkt 4 = 500,

Aufgabe 2: Punkt 1 = 970, Punkt 2 = 680, Punkt 3 = 950, Punkt 4 = 590,

Aufgabe 3: Punkt 1 = 970, Punkt 2 = 510, Punkt 3 = 760, Punkt 4 = 530,

Aufgabe 4: Punkt 1 = 590, Punkt 2 = 730, Punkt 3 = 280, Punkt 4 = 440,