

Im Zahlenbereich bis max. 1000.

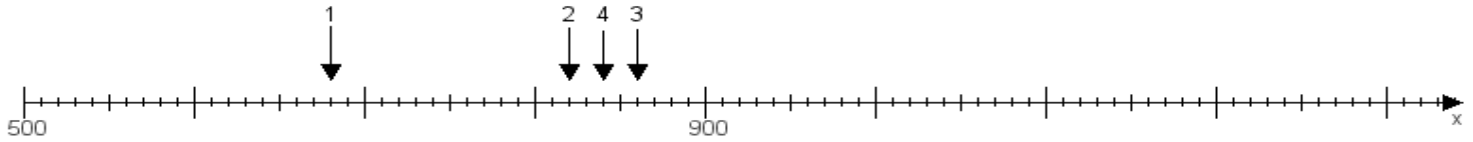
Name:

Klasse:

Datum:

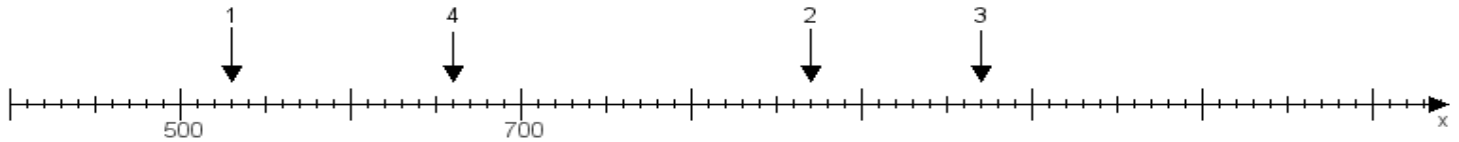
Aufgabe 1:

Ermittle die Werte von den Punkten 1 bis 4.



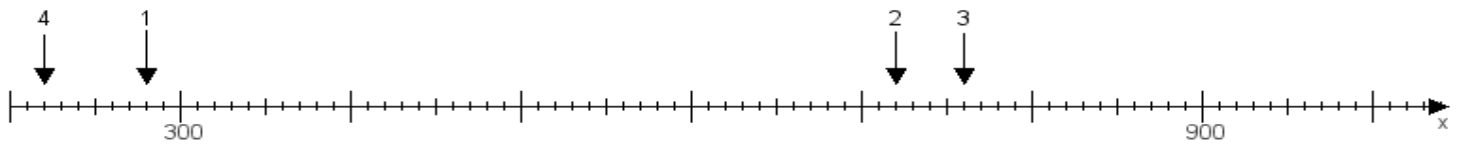
Aufgabe 2:

Ermittle die Werte von den Punkten 1 bis 4.



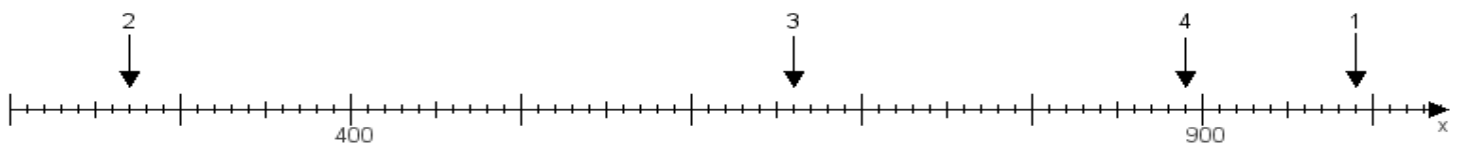
Aufgabe 3:

Ermittle die Werte von den Punkten 1 bis 4.



Aufgabe 4:

Ermittle die Werte von den Punkten 1 bis 4.



www.das-bastelteam.de -> Zahlenstrahl mit 4 Punkten. Blatt Nr.:5
Lösungen:

Aufgabe 1: Punkt 1 = 680, Punkt 2 = 820, Punkt 3 = 860, Punkt 4 = 840,

Aufgabe 2: Punkt 1 = 530, Punkt 2 = 870, Punkt 3 = 970, Punkt 4 = 660,

Aufgabe 3: Punkt 1 = 280, Punkt 2 = 720, Punkt 3 = 760, Punkt 4 = 220,

Aufgabe 4: Punkt 1 = 990, Punkt 2 = 270, Punkt 3 = 660, Punkt 4 = 890,