

Im Zahlenbereich bis max. 1000.

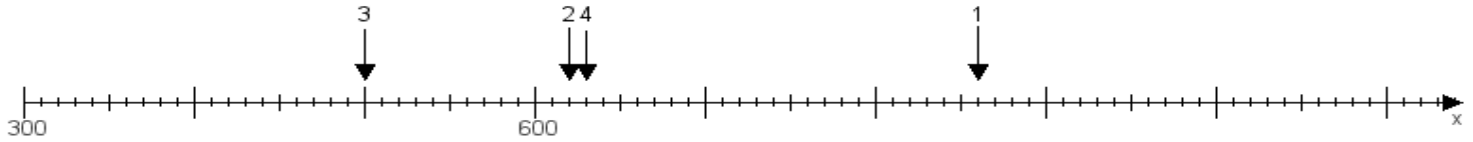
Name:

Klasse:

Datum:

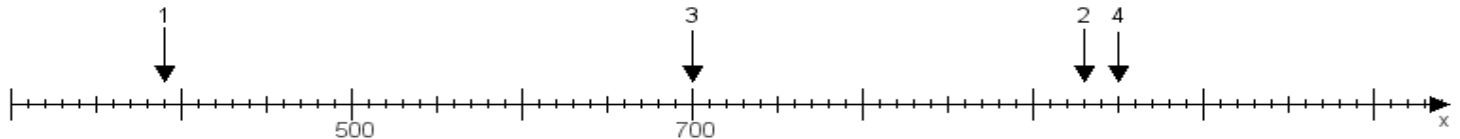
Aufgabe 1:

Ermittle die Werte von den Punkten 1 bis 4.



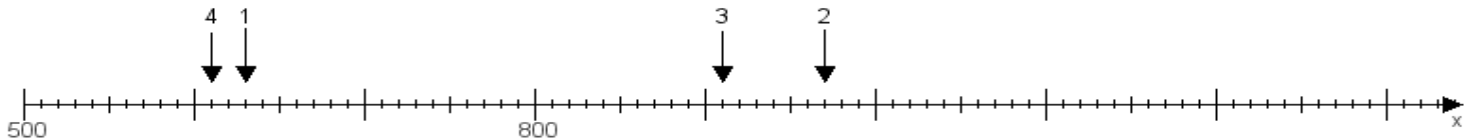
Aufgabe 2:

Ermittle die Werte von den Punkten 1 bis 4.



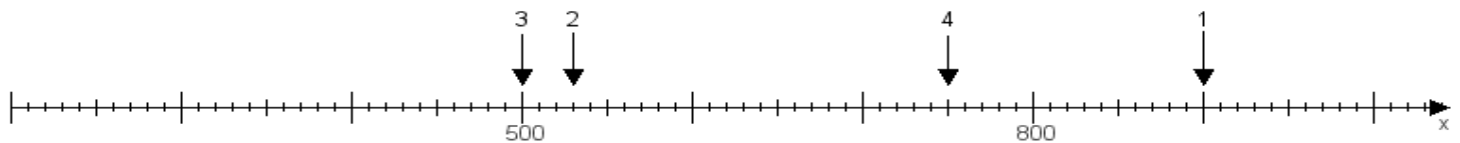
Aufgabe 3:

Ermittle die Werte von den Punkten 1 bis 4.



Aufgabe 4:

Ermittle die Werte von den Punkten 1 bis 4.



www.das-bastelteam.de -> Zahlenstrahl mit 4 Punkten. Blatt Nr.:58
Lösungen:

Aufgabe 1: Punkt 1 = 860, Punkt 2 = 620, Punkt 3 = 500, Punkt 4 = 630,

Aufgabe 2: Punkt 1 = 390, Punkt 2 = 930, Punkt 3 = 700, Punkt 4 = 950,

Aufgabe 3: Punkt 1 = 630, Punkt 2 = 970, Punkt 3 = 910, Punkt 4 = 610,

Aufgabe 4: Punkt 1 = 900, Punkt 2 = 530, Punkt 3 = 500, Punkt 4 = 750,