

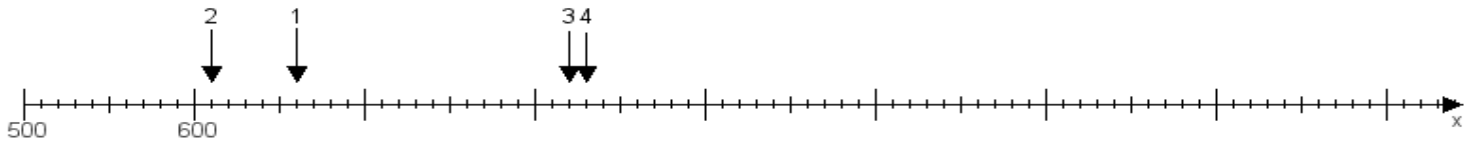
Name:

Klasse:

Datum:

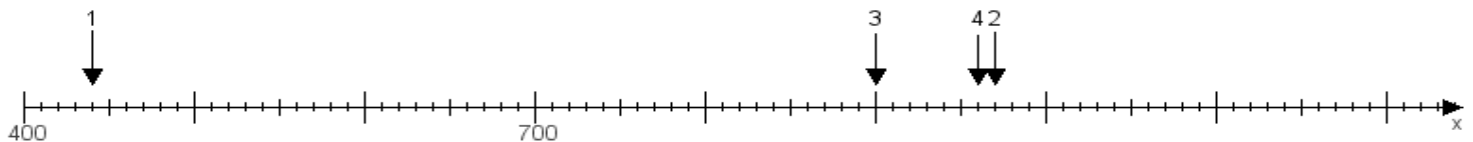
Aufgabe 1:

Ermittle die Werte von den Punkten 1 bis 4.



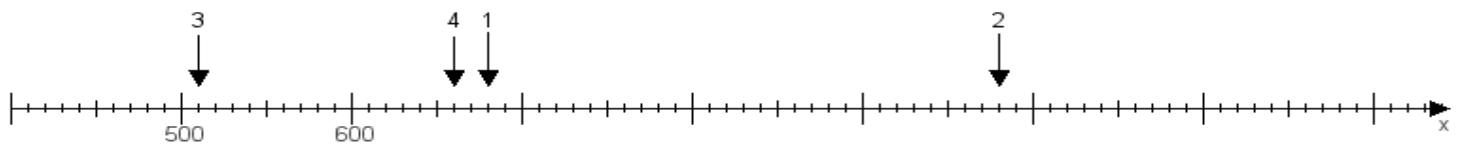
Aufgabe 2:

Ermittle die Werte von den Punkten 1 bis 4.



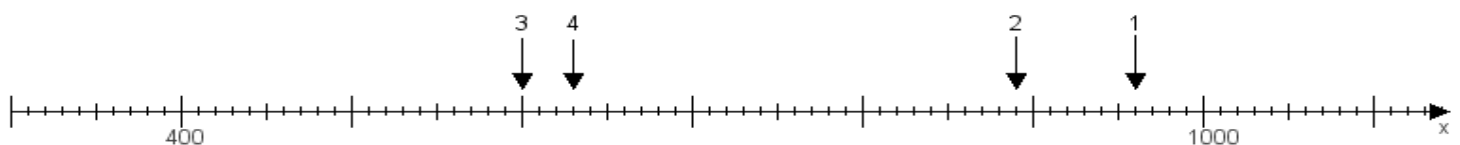
Aufgabe 3:

Ermittle die Werte von den Punkten 1 bis 4.



Aufgabe 4:

Ermittle die Werte von den Punkten 1 bis 4.



www.das-bastelteam.de -> Zahlenstrahl mit 4 Punkten. Blatt Nr.:57
Lösungen:

Aufgabe 1: Punkt 1 = 660, Punkt 2 = 610, Punkt 3 = 820, Punkt 4 = 830,

Aufgabe 2: Punkt 1 = 440, Punkt 2 = 970, Punkt 3 = 900, Punkt 4 = 960,

Aufgabe 3: Punkt 1 = 680, Punkt 2 = 980, Punkt 3 = 510, Punkt 4 = 660,

Aufgabe 4: Punkt 1 = 960, Punkt 2 = 890, Punkt 3 = 600, Punkt 4 = 630,