

Im Zahlenbereich bis max. 1000.

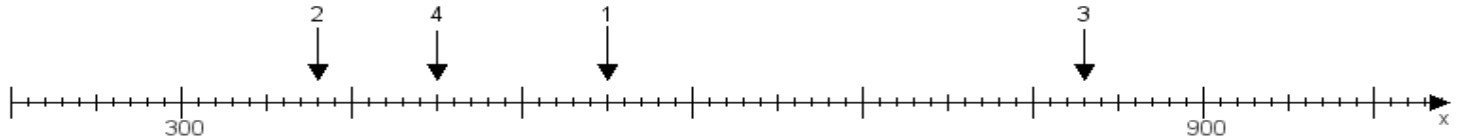
Name:

Klasse:

Datum:

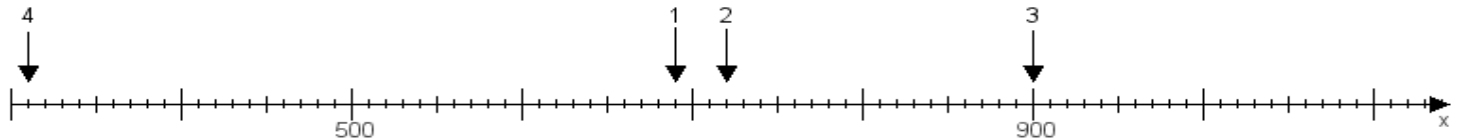
Aufgabe 1:

Ermittle die Werte von den Punkten 1 bis 4.



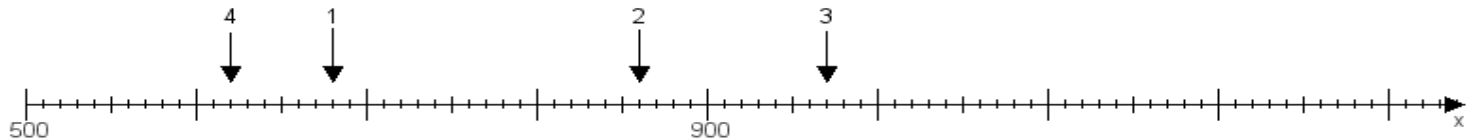
Aufgabe 2:

Ermittle die Werte von den Punkten 1 bis 4.



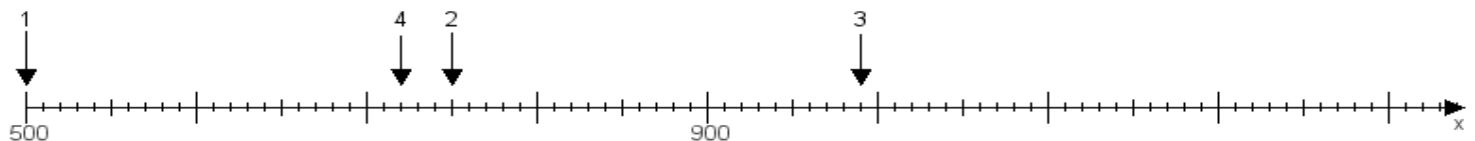
Aufgabe 3:

Ermittle die Werte von den Punkten 1 bis 4.



Aufgabe 4:

Ermittle die Werte von den Punkten 1 bis 4.



www.das-bastelteam.de -> Zahlenstrahl mit 4 Punkten. Blatt Nr.:52
Lösungen:

Aufgabe 1: Punkt 1 = 550, Punkt 2 = 380, Punkt 3 = 830, Punkt 4 = 450,

Aufgabe 2: Punkt 1 = 690, Punkt 2 = 720, Punkt 3 = 900, Punkt 4 = 310,

Aufgabe 3: Punkt 1 = 680, Punkt 2 = 860, Punkt 3 = 970, Punkt 4 = 620,

Aufgabe 4: Punkt 1 = 500, Punkt 2 = 750, Punkt 3 = 990, Punkt 4 = 720,