

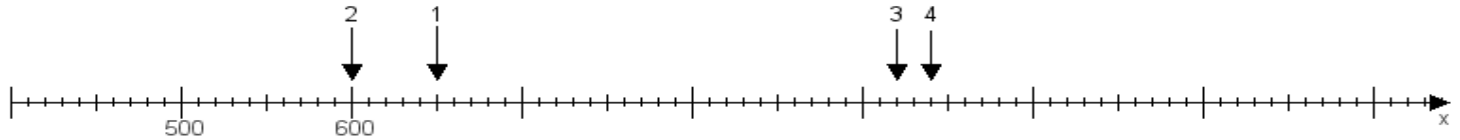
Name:

Klasse:

Datum:

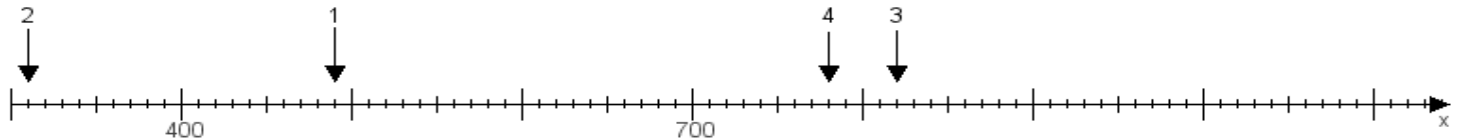
Aufgabe 1:

Ermittle die Werte von den Punkten 1 bis 4.



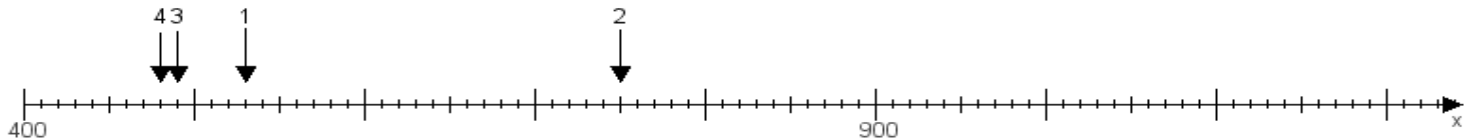
Aufgabe 2:

Ermittle die Werte von den Punkten 1 bis 4.



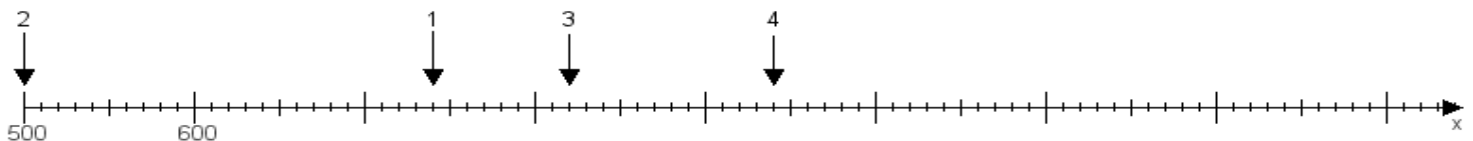
Aufgabe 3:

Ermittle die Werte von den Punkten 1 bis 4.



Aufgabe 4:

Ermittle die Werte von den Punkten 1 bis 4.



www.das-bastelteam.de -> Zahlenstrahl mit 4 Punkten. Blatt Nr.:4
Lösungen:

Aufgabe 1: Punkt 1 = 650, Punkt 2 = 600, Punkt 3 = 920, Punkt 4 = 940,

Aufgabe 2: Punkt 1 = 490, Punkt 2 = 310, Punkt 3 = 820, Punkt 4 = 780,

Aufgabe 3: Punkt 1 = 530, Punkt 2 = 750, Punkt 3 = 490, Punkt 4 = 480,

Aufgabe 4: Punkt 1 = 740, Punkt 2 = 500, Punkt 3 = 820, Punkt 4 = 940,