

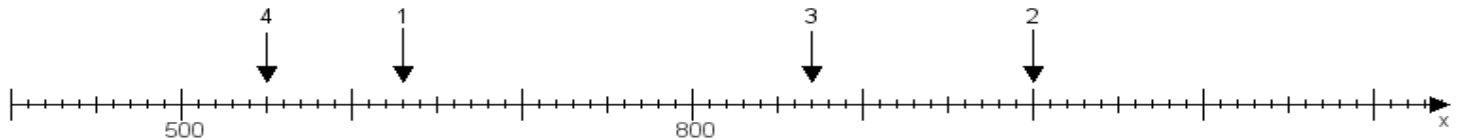
Name:

Klasse:

Datum:

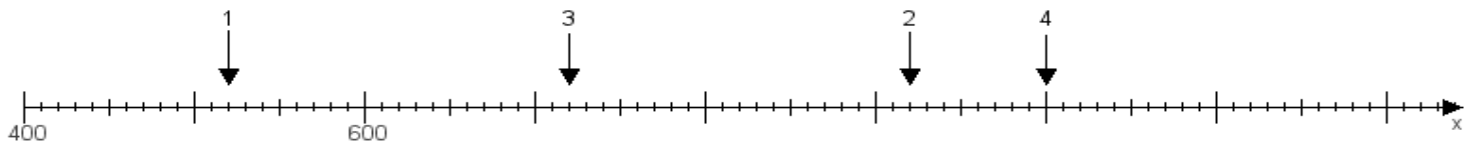
**Aufgabe 1:**

Ermittle die Werte von den Punkten 1 bis 4.



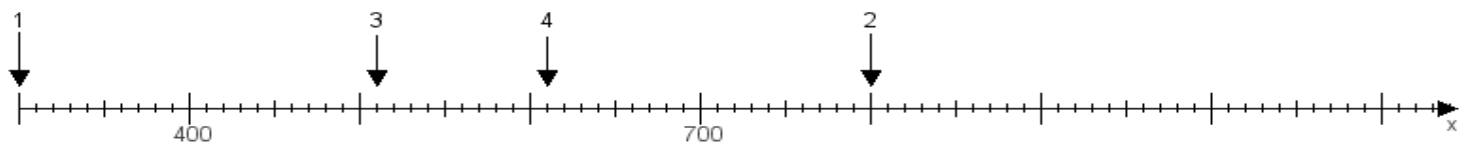
**Aufgabe 2:**

Ermittle die Werte von den Punkten 1 bis 4.



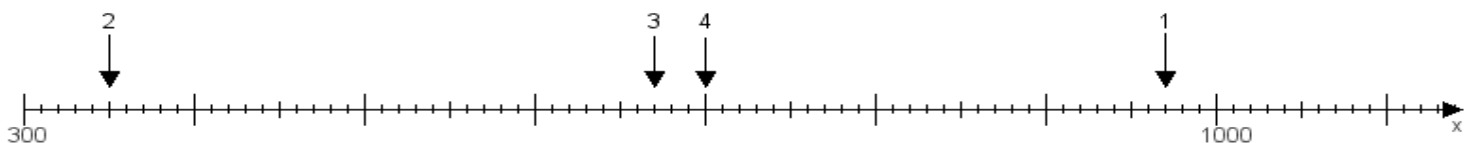
**Aufgabe 3:**

Ermittle die Werte von den Punkten 1 bis 4.



**Aufgabe 4:**

Ermittle die Werte von den Punkten 1 bis 4.



[www.das-bastelteam.de](http://www.das-bastelteam.de) -> Zahlenstrahl mit 4 Punkten. Blatt Nr.:499  
Lösungen:

Aufgabe 1: Punkt 1 = 630, Punkt 2 = 1000, Punkt 3 = 870, Punkt 4 = 550,

Aufgabe 2: Punkt 1 = 520, Punkt 2 = 920, Punkt 3 = 720, Punkt 4 = 1000,

Aufgabe 3: Punkt 1 = 300, Punkt 2 = 800, Punkt 3 = 510, Punkt 4 = 610,

Aufgabe 4: Punkt 1 = 970, Punkt 2 = 350, Punkt 3 = 670, Punkt 4 = 700,