

Im Zahlenbereich bis max. 1000.

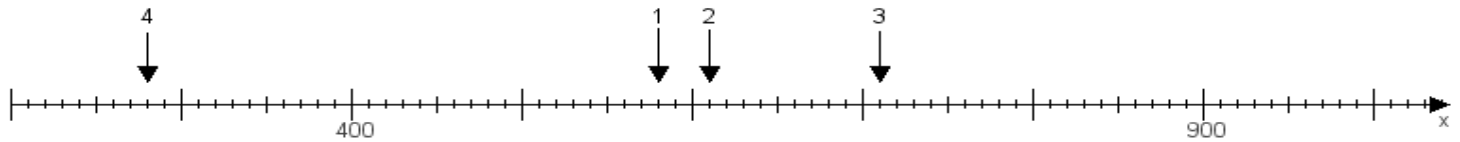
Name:

Klasse:

Datum:

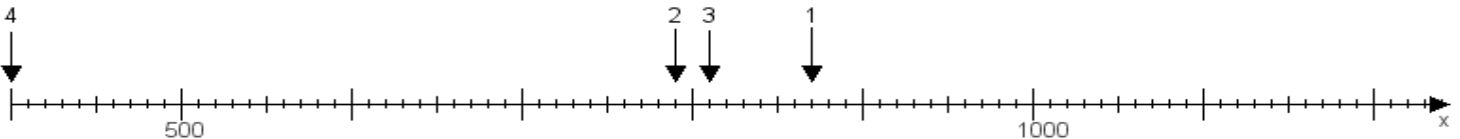
**Aufgabe 1:**

Ermittle die Werte von den Punkten 1 bis 4.



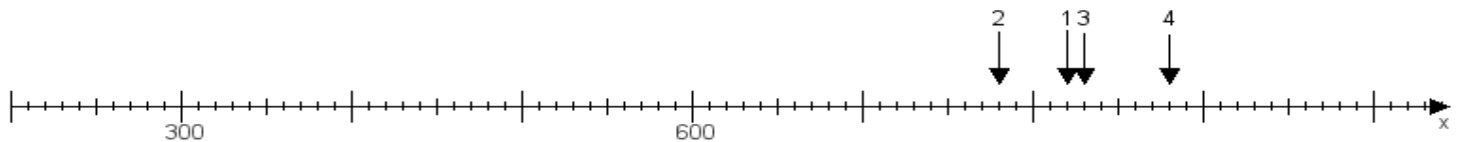
**Aufgabe 2:**

Ermittle die Werte von den Punkten 1 bis 4.



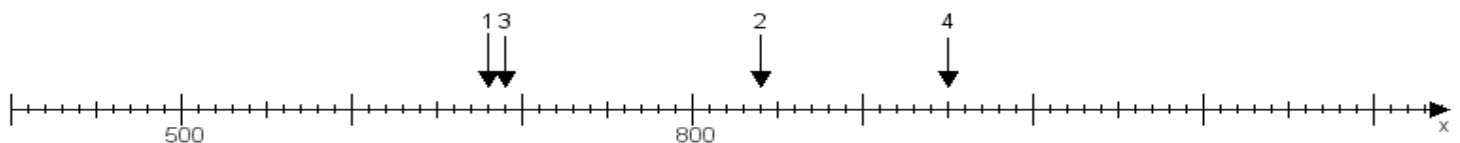
**Aufgabe 3:**

Ermittle die Werte von den Punkten 1 bis 4.



**Aufgabe 4:**

Ermittle die Werte von den Punkten 1 bis 4.



[www.das-bastelteam.de](http://www.das-bastelteam.de) -> Zahlenstrahl mit 4 Punkten. Blatt Nr.:495  
**Lösungen:**

Aufgabe 1: Punkt 1 = 580, Punkt 2 = 610, Punkt 3 = 710, Punkt 4 = 280,

Aufgabe 2: Punkt 1 = 870, Punkt 2 = 790, Punkt 3 = 810, Punkt 4 = 400,

Aufgabe 3: Punkt 1 = 820, Punkt 2 = 780, Punkt 3 = 830, Punkt 4 = 880,

Aufgabe 4: Punkt 1 = 680, Punkt 2 = 840, Punkt 3 = 690, Punkt 4 = 950,