

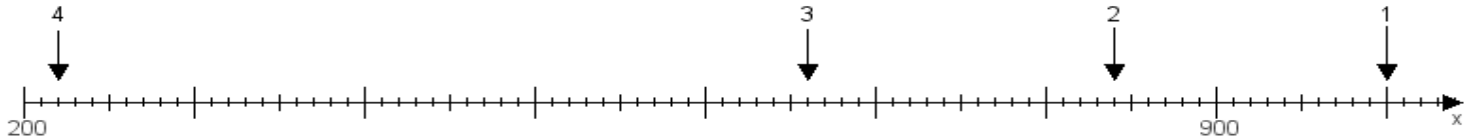
Name:

Klasse:

Datum:

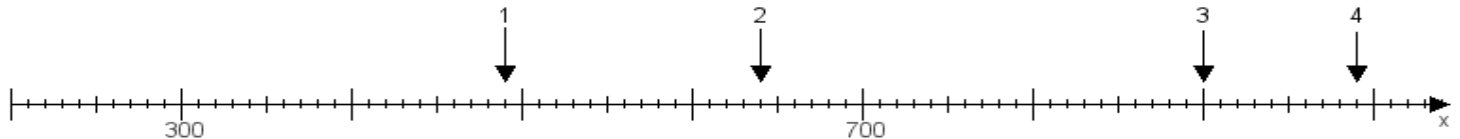
Aufgabe 1:

Ermittle die Werte von den Punkten 1 bis 4.



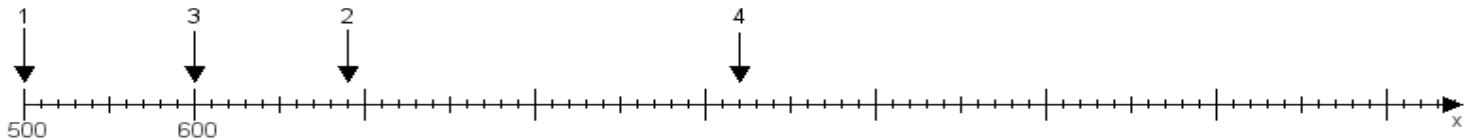
Aufgabe 2:

Ermittle die Werte von den Punkten 1 bis 4.



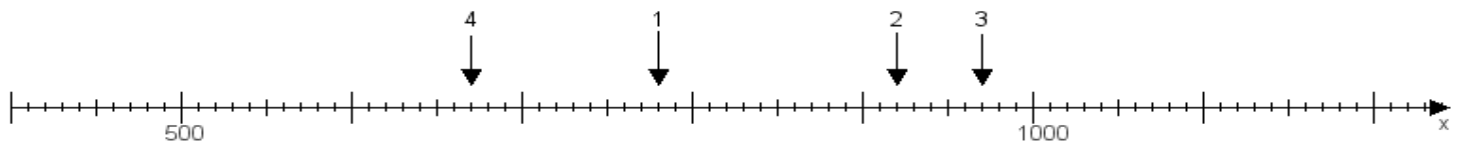
Aufgabe 3:

Ermittle die Werte von den Punkten 1 bis 4.



Aufgabe 4:

Ermittle die Werte von den Punkten 1 bis 4.



www.das-bastelteam.de -> Zahlenstrahl mit 4 Punkten. Blatt Nr.:494
Lösungen:

Aufgabe 1: Punkt 1 = 1000, Punkt 2 = 840, Punkt 3 = 660, Punkt 4 = 220,

Aufgabe 2: Punkt 1 = 490, Punkt 2 = 640, Punkt 3 = 900, Punkt 4 = 990,

Aufgabe 3: Punkt 1 = 500, Punkt 2 = 690, Punkt 3 = 600, Punkt 4 = 920,

Aufgabe 4: Punkt 1 = 780, Punkt 2 = 920, Punkt 3 = 970, Punkt 4 = 670,