

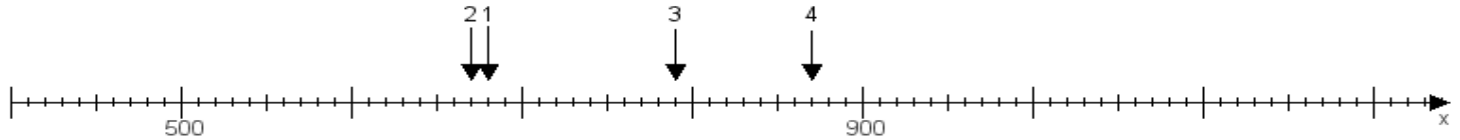
Name:

Klasse:

Datum:

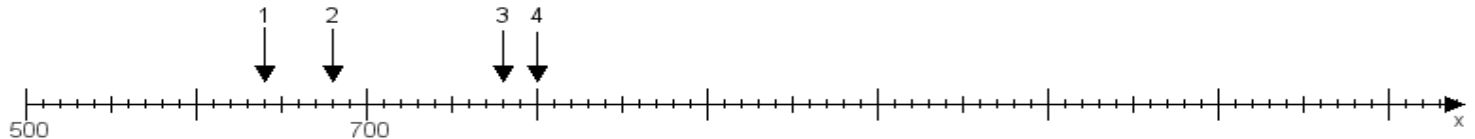
Aufgabe 1:

Ermittle die Werte von den Punkten 1 bis 4.



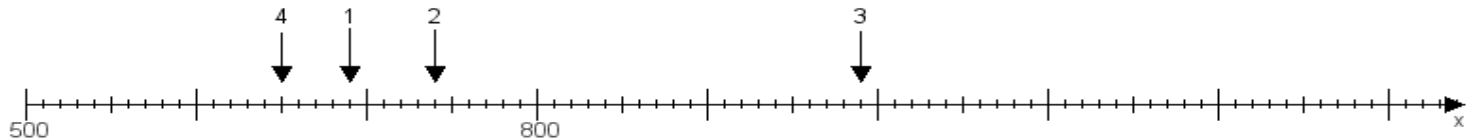
Aufgabe 2:

Ermittle die Werte von den Punkten 1 bis 4.



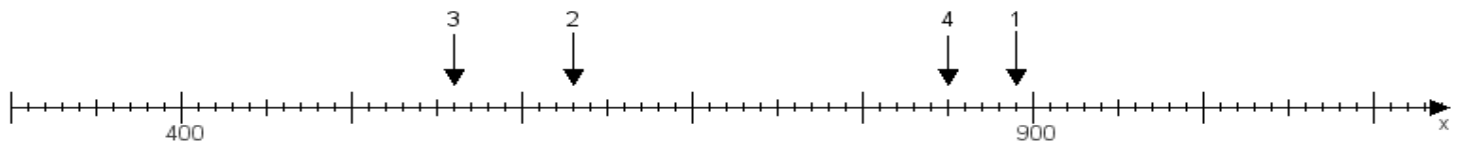
Aufgabe 3:

Ermittle die Werte von den Punkten 1 bis 4.



Aufgabe 4:

Ermittle die Werte von den Punkten 1 bis 4.



Aufgabe 1: Punkt 1 = 680, Punkt 2 = 670, Punkt 3 = 790, Punkt 4 = 870,

Aufgabe 2: Punkt 1 = 640, Punkt 2 = 680, Punkt 3 = 780, Punkt 4 = 800,

Aufgabe 3: Punkt 1 = 690, Punkt 2 = 740, Punkt 3 = 990, Punkt 4 = 650,

Aufgabe 4: Punkt 1 = 890, Punkt 2 = 630, Punkt 3 = 560, Punkt 4 = 850,