

Im Zahlenbereich bis max. 1000.

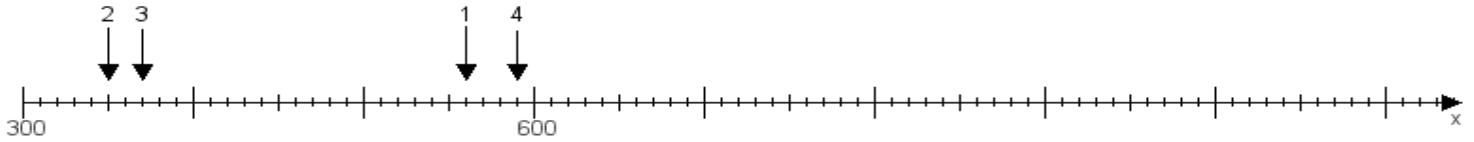
Name:

Klasse:

Datum:

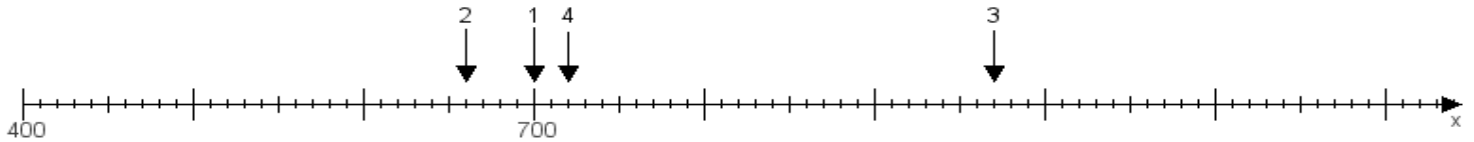
Aufgabe 1:

Ermittle die Werte von den Punkten 1 bis 4.



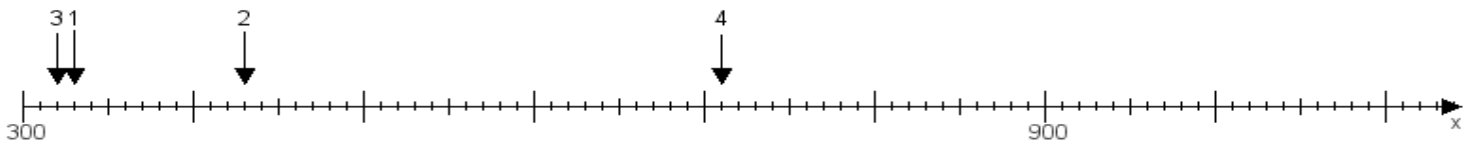
Aufgabe 2:

Ermittle die Werte von den Punkten 1 bis 4.



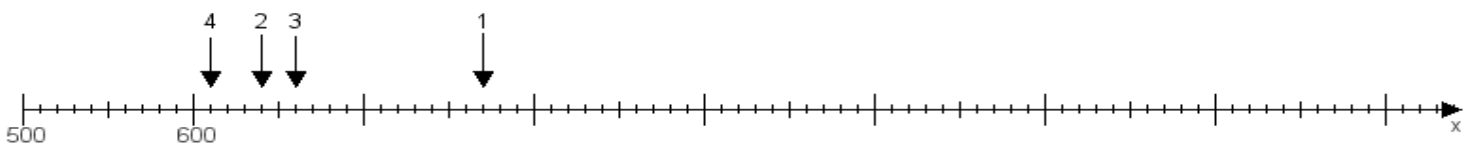
Aufgabe 3:

Ermittle die Werte von den Punkten 1 bis 4.



Aufgabe 4:

Ermittle die Werte von den Punkten 1 bis 4.



www.das-bastelteam.de -> Zahlenstrahl mit 4 Punkten. Blatt Nr.:492
Lösungen:

Aufgabe 1: Punkt 1 = 560, Punkt 2 = 350, Punkt 3 = 370, Punkt 4 = 590,

Aufgabe 2: Punkt 1 = 700, Punkt 2 = 660, Punkt 3 = 970, Punkt 4 = 720,

Aufgabe 3: Punkt 1 = 330, Punkt 2 = 430, Punkt 3 = 320, Punkt 4 = 710,

Aufgabe 4: Punkt 1 = 770, Punkt 2 = 640, Punkt 3 = 660, Punkt 4 = 610,