

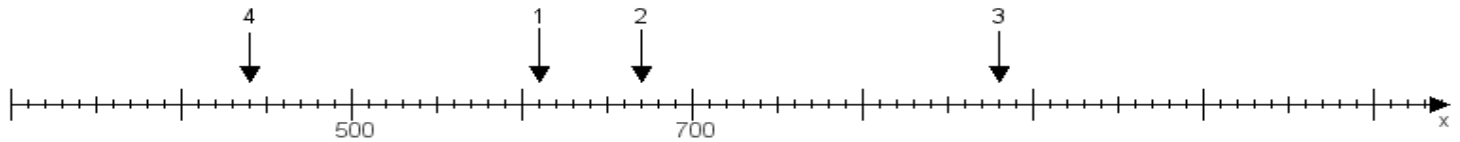
Name:

Klasse:

Datum:

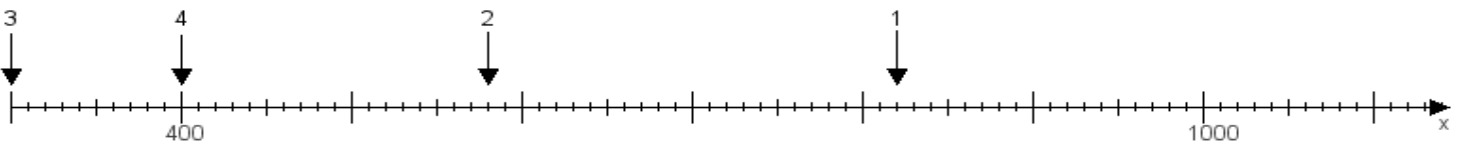
Aufgabe 1:

Ermittle die Werte von den Punkten 1 bis 4.



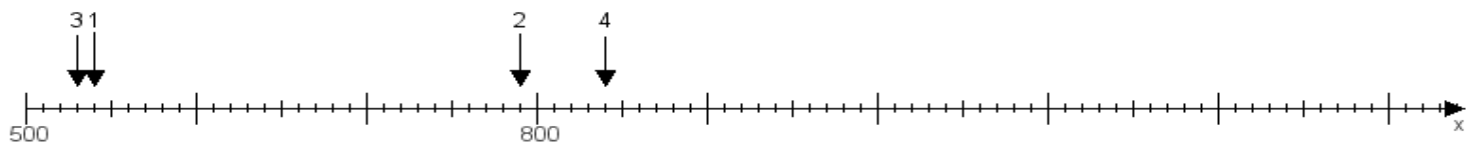
Aufgabe 2:

Ermittle die Werte von den Punkten 1 bis 4.



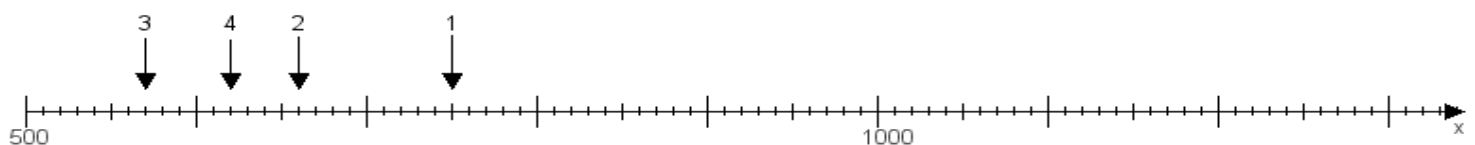
Aufgabe 3:

Ermittle die Werte von den Punkten 1 bis 4.



Aufgabe 4:

Ermittle die Werte von den Punkten 1 bis 4.



www.das-bastelteam.de -> Zahlenstrahl mit 4 Punkten. Blatt Nr.:491
Lösungen:

Aufgabe 1: Punkt 1 = 610, Punkt 2 = 670, Punkt 3 = 880, Punkt 4 = 440,

Aufgabe 2: Punkt 1 = 820, Punkt 2 = 580, Punkt 3 = 300, Punkt 4 = 400,

Aufgabe 3: Punkt 1 = 540, Punkt 2 = 790, Punkt 3 = 530, Punkt 4 = 840,

Aufgabe 4: Punkt 1 = 750, Punkt 2 = 660, Punkt 3 = 570, Punkt 4 = 620,