

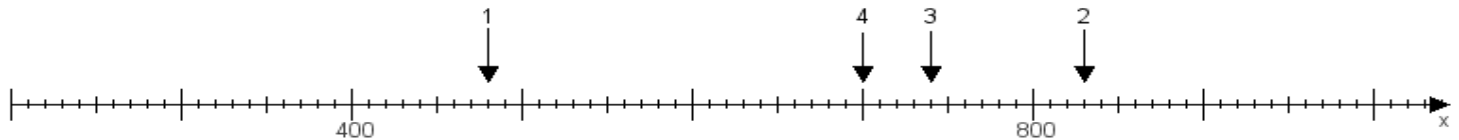
Name:

Klasse:

Datum:

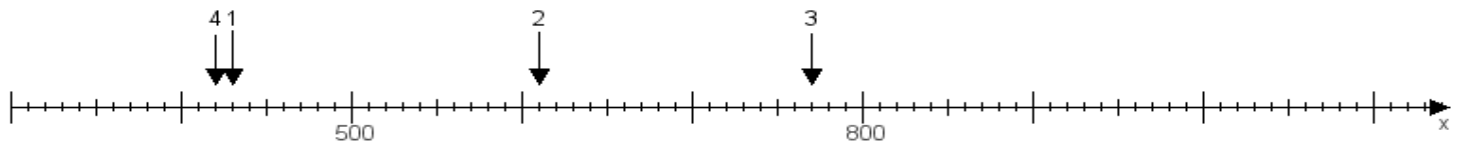
Aufgabe 1:

Ermittle die Werte von den Punkten 1 bis 4.



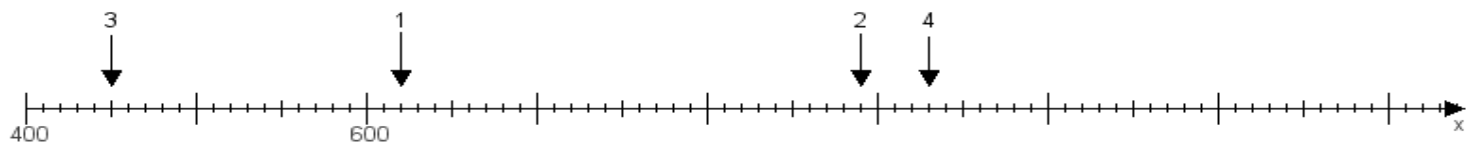
Aufgabe 2:

Ermittle die Werte von den Punkten 1 bis 4.



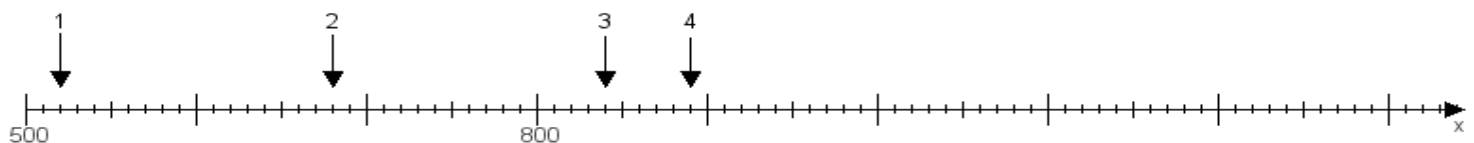
Aufgabe 3:

Ermittle die Werte von den Punkten 1 bis 4.



Aufgabe 4:

Ermittle die Werte von den Punkten 1 bis 4.



www.das-bastelteam.de -> Zahlenstrahl mit 4 Punkten. Blatt Nr.:48
Lösungen:

Aufgabe 1: Punkt 1 = 480, Punkt 2 = 830, Punkt 3 = 740, Punkt 4 = 700,

Aufgabe 2: Punkt 1 = 430, Punkt 2 = 610, Punkt 3 = 770, Punkt 4 = 420,

Aufgabe 3: Punkt 1 = 620, Punkt 2 = 890, Punkt 3 = 450, Punkt 4 = 930,

Aufgabe 4: Punkt 1 = 520, Punkt 2 = 680, Punkt 3 = 840, Punkt 4 = 890,