

Im Zahlenbereich bis max. 1000.

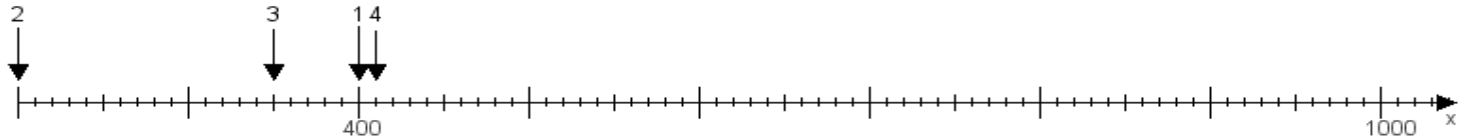
Name:

Klasse:

Datum:

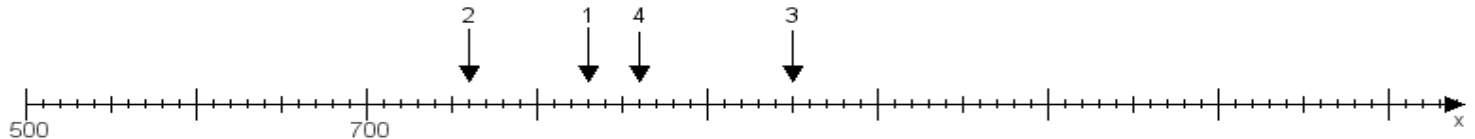
Aufgabe 1:

Ermittle die Werte von den Punkten 1 bis 4.



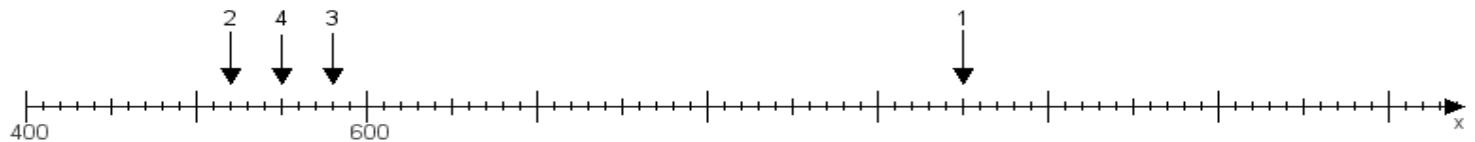
Aufgabe 2:

Ermittle die Werte von den Punkten 1 bis 4.



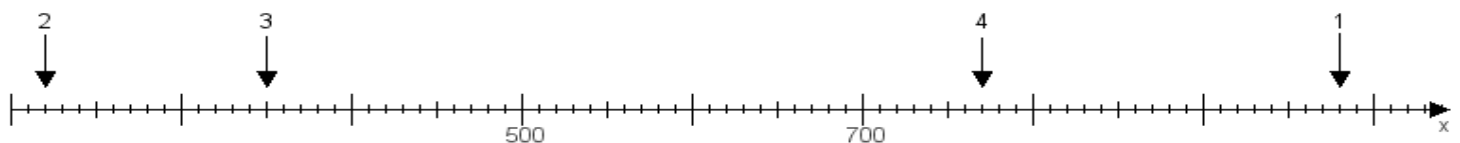
Aufgabe 3:

Ermittle die Werte von den Punkten 1 bis 4.



Aufgabe 4:

Ermittle die Werte von den Punkten 1 bis 4.



www.das-bastelteam.de -> Zahlenstrahl mit 4 Punkten. Blatt Nr.:489
Lösungen:

Aufgabe 1: Punkt 1 = 400, Punkt 2 = 200, Punkt 3 = 350, Punkt 4 = 410,

Aufgabe 2: Punkt 1 = 830, Punkt 2 = 760, Punkt 3 = 950, Punkt 4 = 860,

Aufgabe 3: Punkt 1 = 950, Punkt 2 = 520, Punkt 3 = 580, Punkt 4 = 550,

Aufgabe 4: Punkt 1 = 980, Punkt 2 = 220, Punkt 3 = 350, Punkt 4 = 770,