

Im Zahlenbereich bis max. 1000.

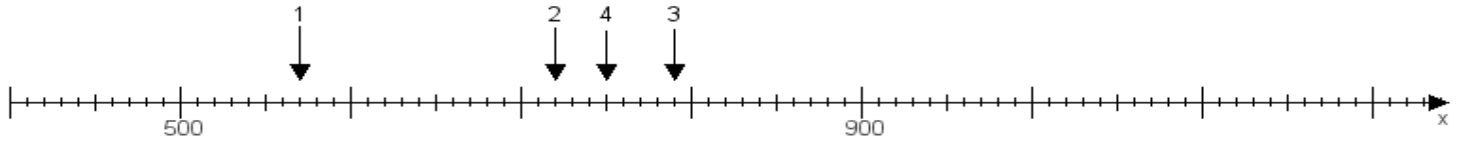
Name:

Klasse:

Datum:

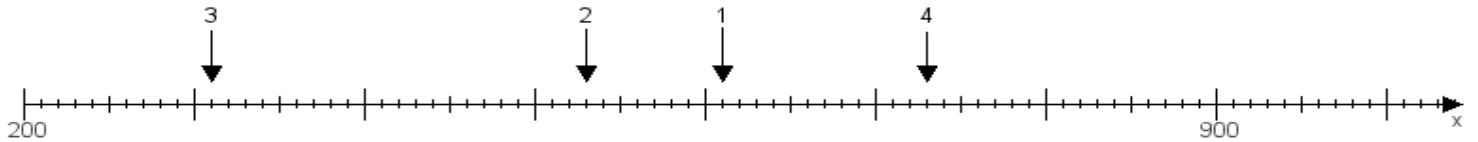
Aufgabe 1:

Ermittle die Werte von den Punkten 1 bis 4.



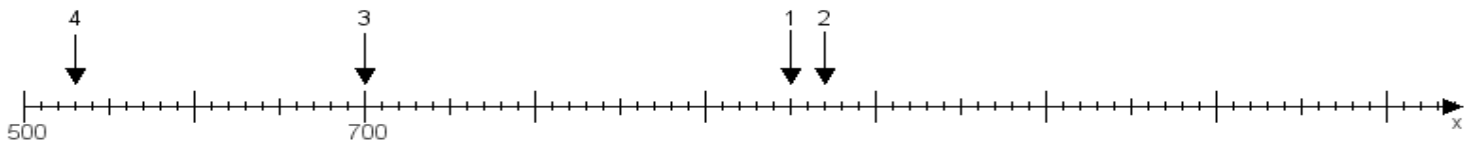
Aufgabe 2:

Ermittle die Werte von den Punkten 1 bis 4.



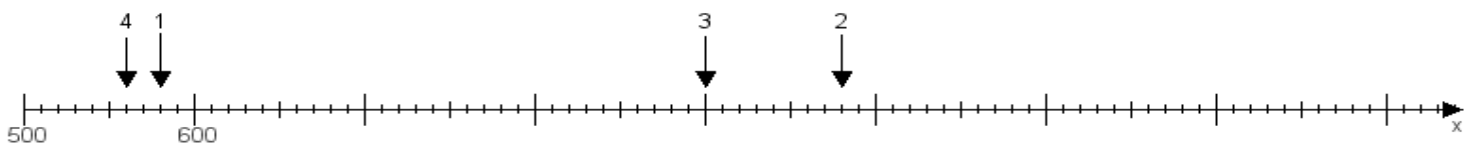
Aufgabe 3:

Ermittle die Werte von den Punkten 1 bis 4.



Aufgabe 4:

Ermittle die Werte von den Punkten 1 bis 4.



www.das-bastelteam.de -> Zahlenstrahl mit 4 Punkten. Blatt Nr.:488
Lösungen:

Aufgabe 1: Punkt 1 = 570, Punkt 2 = 720, Punkt 3 = 790, Punkt 4 = 750,

Aufgabe 2: Punkt 1 = 610, Punkt 2 = 530, Punkt 3 = 310, Punkt 4 = 730,

Aufgabe 3: Punkt 1 = 950, Punkt 2 = 970, Punkt 3 = 700, Punkt 4 = 530,

Aufgabe 4: Punkt 1 = 580, Punkt 2 = 980, Punkt 3 = 900, Punkt 4 = 560,

www.bin-dann-weg.de -> Ferienwohnungen und Ferienhäuser.

www.kleinanzeigen-und-annoncen.de -> Kostenlose Kleinanzeigen deutschlandweit.