

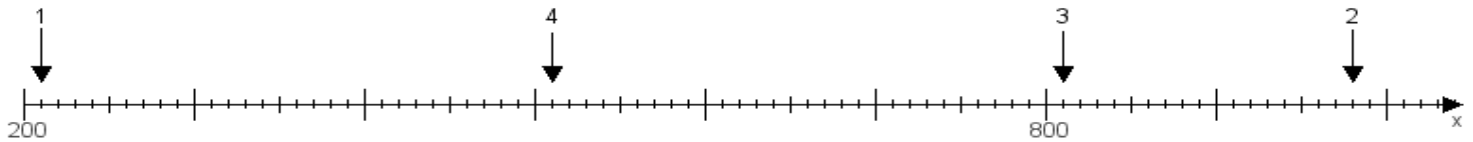
Name:

Klasse:

Datum:

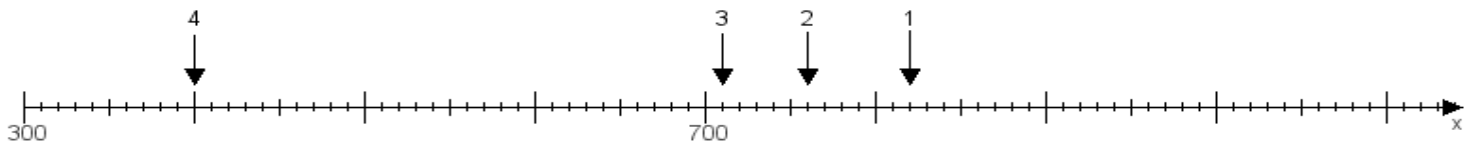
Aufgabe 1:

Ermittle die Werte von den Punkten 1 bis 4.



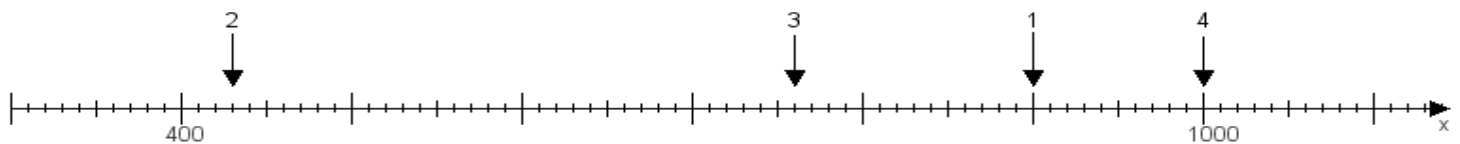
Aufgabe 2:

Ermittle die Werte von den Punkten 1 bis 4.



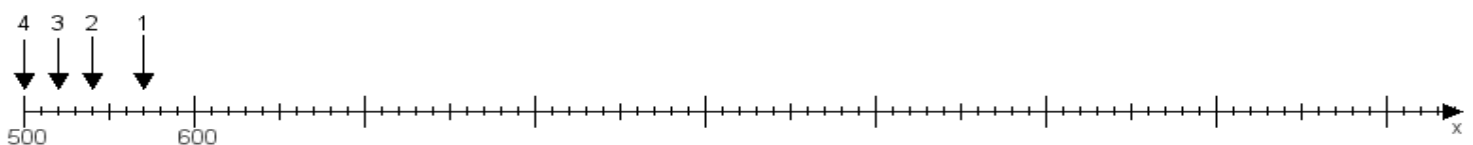
Aufgabe 3:

Ermittle die Werte von den Punkten 1 bis 4.



Aufgabe 4:

Ermittle die Werte von den Punkten 1 bis 4.



www.das-bastelteam.de -> Zahlenstrahl mit 4 Punkten. Blatt Nr.:487
Lösungen:

Aufgabe 1: Punkt 1 = 210, Punkt 2 = 980, Punkt 3 = 810, Punkt 4 = 510,

Aufgabe 2: Punkt 1 = 820, Punkt 2 = 760, Punkt 3 = 710, Punkt 4 = 400,

Aufgabe 3: Punkt 1 = 900, Punkt 2 = 430, Punkt 3 = 760, Punkt 4 = 1000,

Aufgabe 4: Punkt 1 = 570, Punkt 2 = 540, Punkt 3 = 520, Punkt 4 = 500,