

Im Zahlenbereich bis max. 1000.

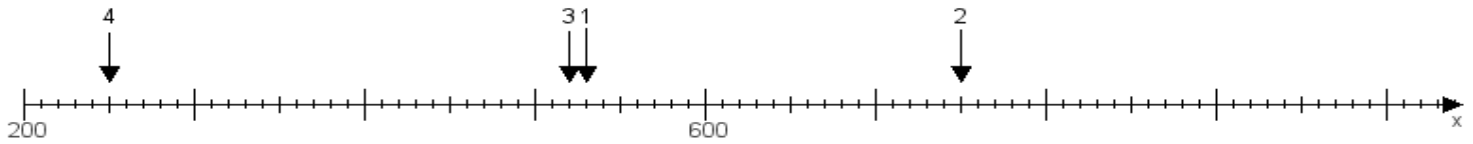
Name:

Klasse:

Datum:

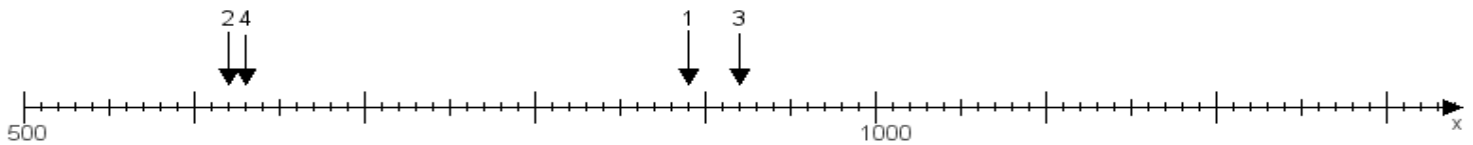
**Aufgabe 1:**

Ermittle die Werte von den Punkten 1 bis 4.



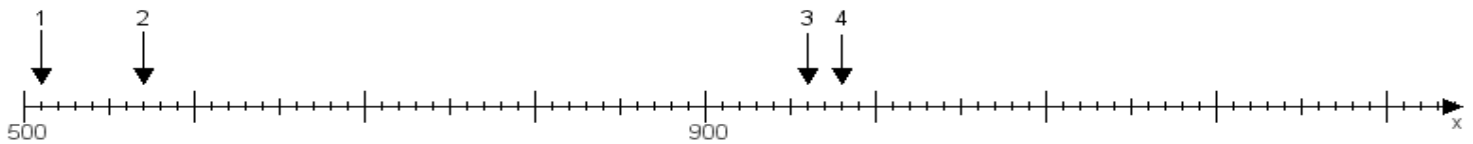
**Aufgabe 2:**

Ermittle die Werte von den Punkten 1 bis 4.



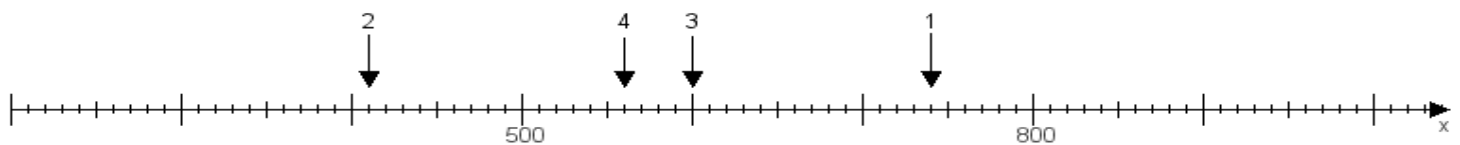
**Aufgabe 3:**

Ermittle die Werte von den Punkten 1 bis 4.



**Aufgabe 4:**

Ermittle die Werte von den Punkten 1 bis 4.



[www.das-bastelteam.de](http://www.das-bastelteam.de) -> Zahlenstrahl mit 4 Punkten. Blatt Nr.:481  
Lösungen:

Aufgabe 1: Punkt 1 = 530, Punkt 2 = 750, Punkt 3 = 520, Punkt 4 = 250,

Aufgabe 2: Punkt 1 = 890, Punkt 2 = 620, Punkt 3 = 920, Punkt 4 = 630,

Aufgabe 3: Punkt 1 = 510, Punkt 2 = 570, Punkt 3 = 960, Punkt 4 = 980,

Aufgabe 4: Punkt 1 = 740, Punkt 2 = 410, Punkt 3 = 600, Punkt 4 = 560,