

Im Zahlenbereich bis max. 1000.

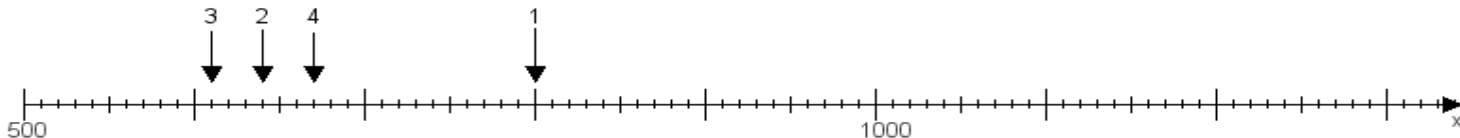
Name:

Klasse:

Datum:

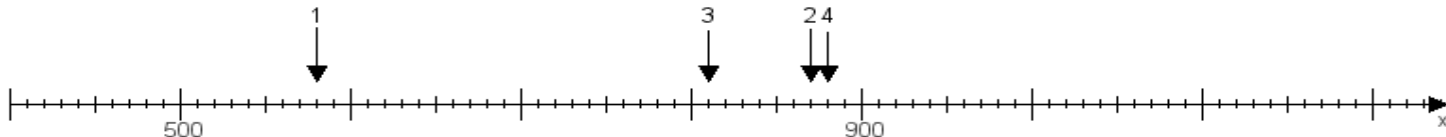
**Aufgabe 1:**

Ermittle die Werte von den Punkten 1 bis 4.



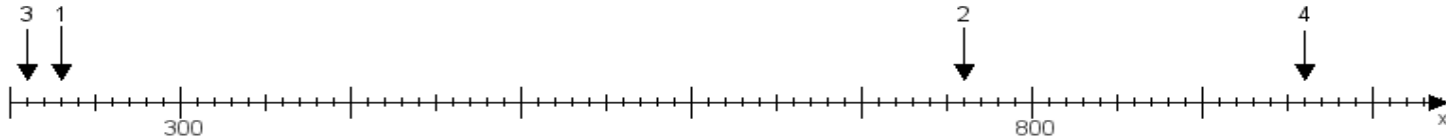
**Aufgabe 2:**

Ermittle die Werte von den Punkten 1 bis 4.



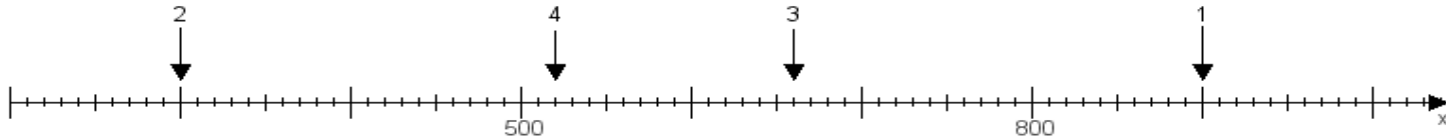
**Aufgabe 3:**

Ermittle die Werte von den Punkten 1 bis 4.



**Aufgabe 4:**

Ermittle die Werte von den Punkten 1 bis 4.



[www.das-bastelteam.de](http://www.das-bastelteam.de) -> Zahlenstrahl mit 4 Punkten. Blatt Nr.:480  
Lösungen:

Aufgabe 1: Punkt 1 = 800, Punkt 2 = 640, Punkt 3 = 610, Punkt 4 = 670,

Aufgabe 2: Punkt 1 = 580, Punkt 2 = 870, Punkt 3 = 810, Punkt 4 = 880,

Aufgabe 3: Punkt 1 = 230, Punkt 2 = 760, Punkt 3 = 210, Punkt 4 = 960,

Aufgabe 4: Punkt 1 = 900, Punkt 2 = 300, Punkt 3 = 660, Punkt 4 = 520,