

Im Zahlenbereich bis max. 1000.

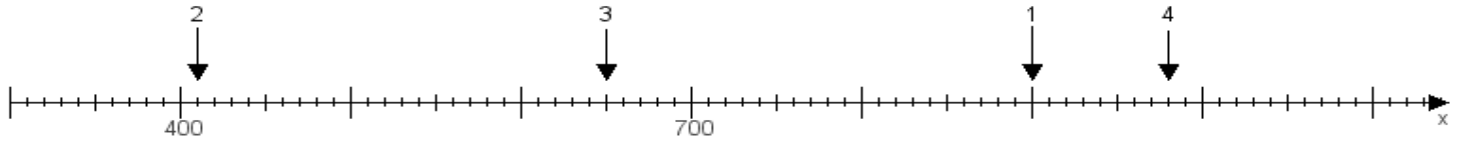
Name:

Klasse:

Datum:

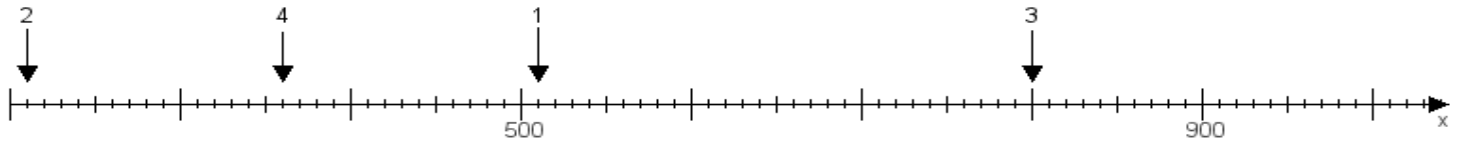
**Aufgabe 1:**

Ermittle die Werte von den Punkten 1 bis 4.



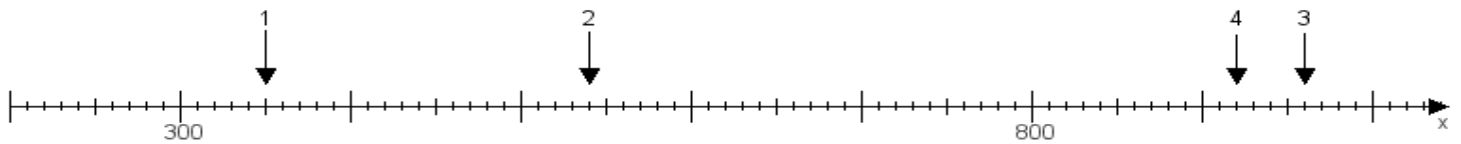
**Aufgabe 2:**

Ermittle die Werte von den Punkten 1 bis 4.



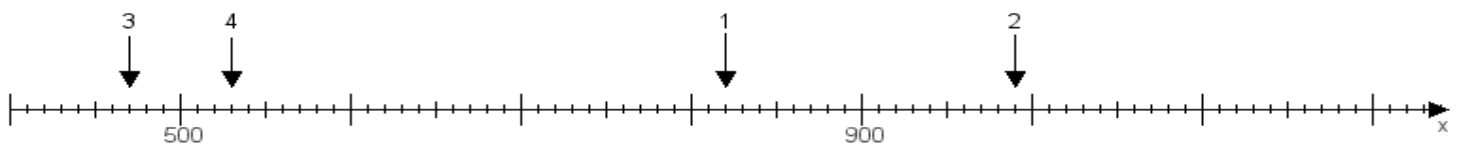
**Aufgabe 3:**

Ermittle die Werte von den Punkten 1 bis 4.



**Aufgabe 4:**

Ermittle die Werte von den Punkten 1 bis 4.



[www.das-bastelteam.de](http://www.das-bastelteam.de) -> Zahlenstrahl mit 4 Punkten. Blatt Nr.:476  
Lösungen:

Aufgabe 1: Punkt 1 = 900, Punkt 2 = 410, Punkt 3 = 650, Punkt 4 = 980,

Aufgabe 2: Punkt 1 = 510, Punkt 2 = 210, Punkt 3 = 800, Punkt 4 = 360,

Aufgabe 3: Punkt 1 = 350, Punkt 2 = 540, Punkt 3 = 960, Punkt 4 = 920,

Aufgabe 4: Punkt 1 = 820, Punkt 2 = 990, Punkt 3 = 470, Punkt 4 = 530,