

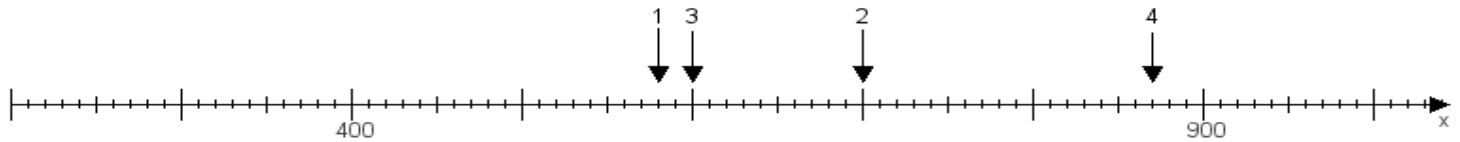
Name:

Klasse:

Datum:

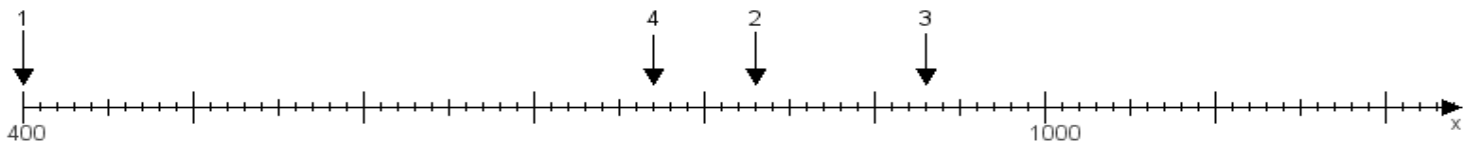
**Aufgabe 1:**

Ermittle die Werte von den Punkten 1 bis 4.



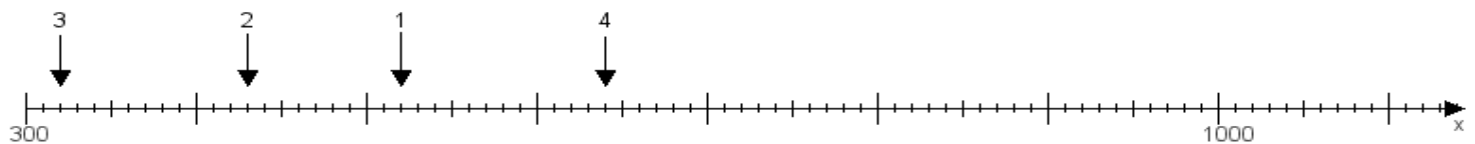
**Aufgabe 2:**

Ermittle die Werte von den Punkten 1 bis 4.



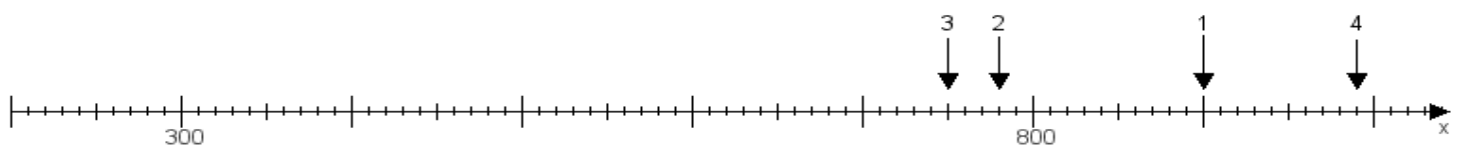
**Aufgabe 3:**

Ermittle die Werte von den Punkten 1 bis 4.



**Aufgabe 4:**

Ermittle die Werte von den Punkten 1 bis 4.



[www.das-bastelteam.de](http://www.das-bastelteam.de) -> Zahlenstrahl mit 4 Punkten. Blatt Nr.:473  
Lösungen:

Aufgabe 1: Punkt 1 = 580, Punkt 2 = 700, Punkt 3 = 600, Punkt 4 = 870,

Aufgabe 2: Punkt 1 = 400, Punkt 2 = 830, Punkt 3 = 930, Punkt 4 = 770,

Aufgabe 3: Punkt 1 = 520, Punkt 2 = 430, Punkt 3 = 320, Punkt 4 = 640,

Aufgabe 4: Punkt 1 = 900, Punkt 2 = 780, Punkt 3 = 750, Punkt 4 = 990,