

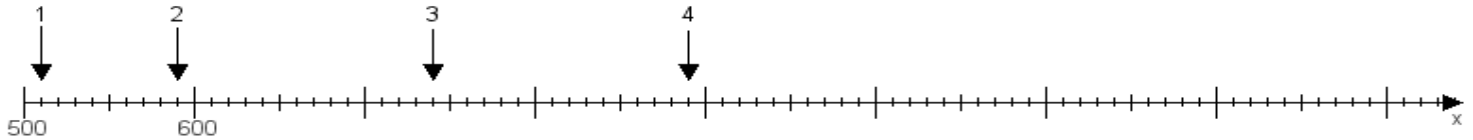
Name:

Klasse:

Datum:

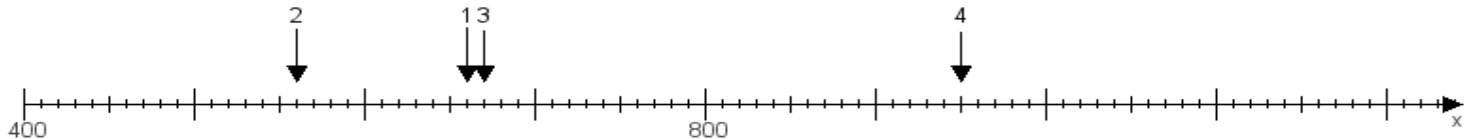
Aufgabe 1:

Ermittle die Werte von den Punkten 1 bis 4.



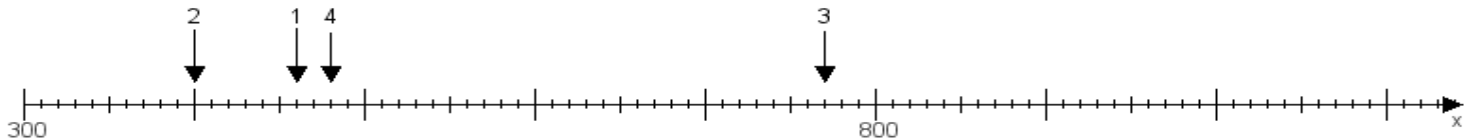
Aufgabe 2:

Ermittle die Werte von den Punkten 1 bis 4.



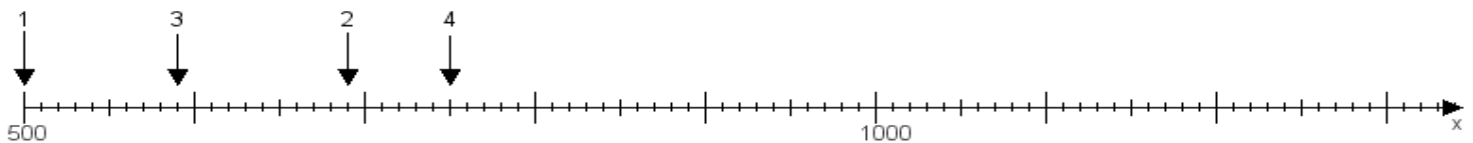
Aufgabe 3:

Ermittle die Werte von den Punkten 1 bis 4.



Aufgabe 4:

Ermittle die Werte von den Punkten 1 bis 4.



www.das-bastelteam.de -> Zahlenstrahl mit 4 Punkten. Blatt Nr.:472
Lösungen:

Aufgabe 1: Punkt 1 = 510, Punkt 2 = 590, Punkt 3 = 740, Punkt 4 = 890,

Aufgabe 2: Punkt 1 = 660, Punkt 2 = 560, Punkt 3 = 670, Punkt 4 = 950,

Aufgabe 3: Punkt 1 = 460, Punkt 2 = 400, Punkt 3 = 770, Punkt 4 = 480,

Aufgabe 4: Punkt 1 = 500, Punkt 2 = 690, Punkt 3 = 590, Punkt 4 = 750,