

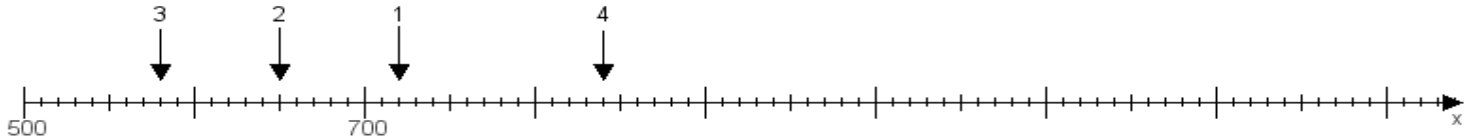
Name:

Klasse:

Datum:

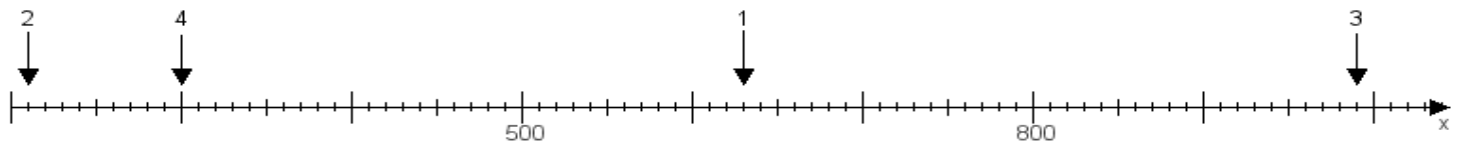
Aufgabe 1:

Ermittle die Werte von den Punkten 1 bis 4.



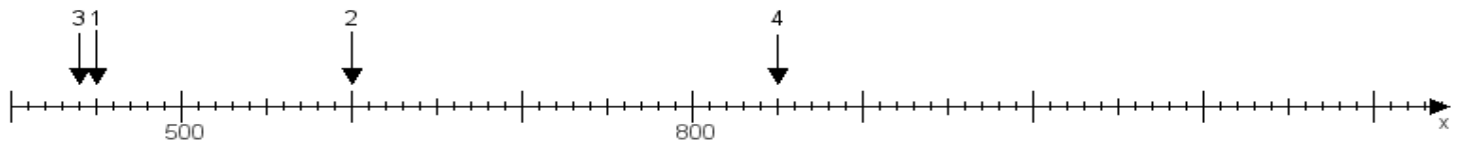
Aufgabe 2:

Ermittle die Werte von den Punkten 1 bis 4.



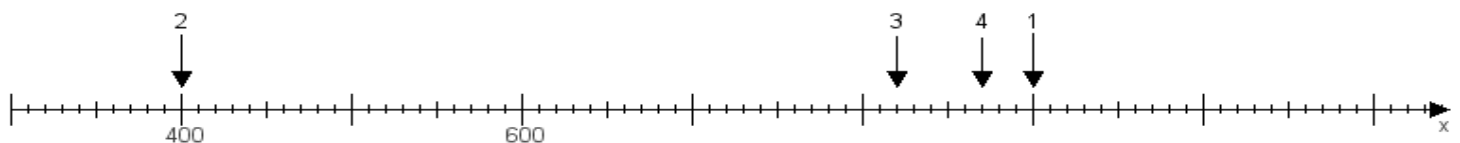
Aufgabe 3:

Ermittle die Werte von den Punkten 1 bis 4.



Aufgabe 4:

Ermittle die Werte von den Punkten 1 bis 4.



www.das-bastelteam.de -> Zahlenstrahl mit 4 Punkten. Blatt Nr.:471
Lösungen:

Aufgabe 1: Punkt 1 = 720, Punkt 2 = 650, Punkt 3 = 580, Punkt 4 = 840,

Aufgabe 2: Punkt 1 = 630, Punkt 2 = 210, Punkt 3 = 990, Punkt 4 = 300,

Aufgabe 3: Punkt 1 = 450, Punkt 2 = 600, Punkt 3 = 440, Punkt 4 = 850,

Aufgabe 4: Punkt 1 = 900, Punkt 2 = 400, Punkt 3 = 820, Punkt 4 = 870,