

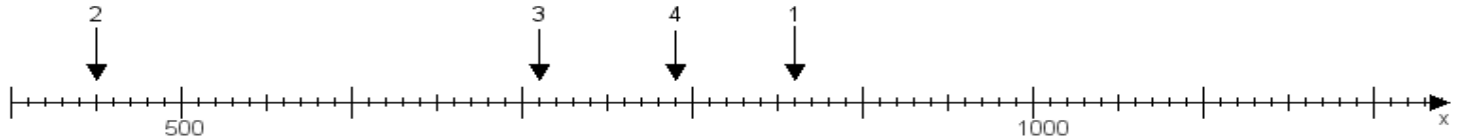
Name:

Klasse:

Datum:

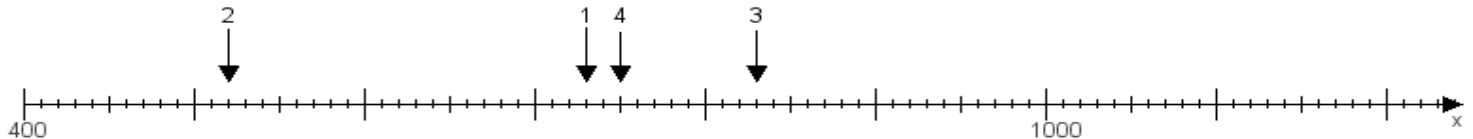
**Aufgabe 1:**

Ermittle die Werte von den Punkten 1 bis 4.



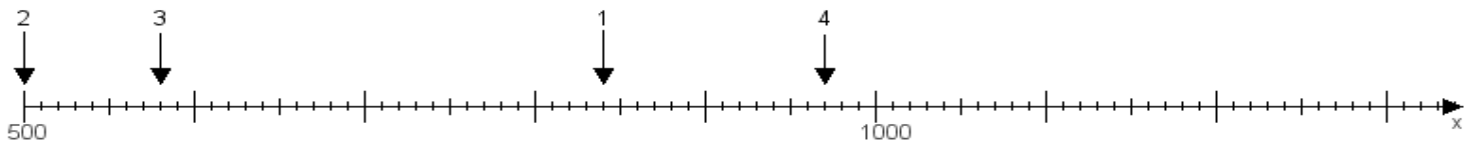
**Aufgabe 2:**

Ermittle die Werte von den Punkten 1 bis 4.



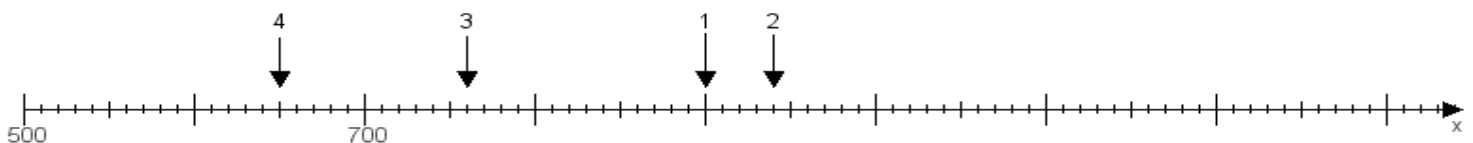
**Aufgabe 3:**

Ermittle die Werte von den Punkten 1 bis 4.



**Aufgabe 4:**

Ermittle die Werte von den Punkten 1 bis 4.



[www.das-bastelteam.de](http://www.das-bastelteam.de) -> Zahlenstrahl mit 4 Punkten. Blatt Nr.:470  
Lösungen:

Aufgabe 1: Punkt 1 = 860, Punkt 2 = 450, Punkt 3 = 710, Punkt 4 = 790,

Aufgabe 2: Punkt 1 = 730, Punkt 2 = 520, Punkt 3 = 830, Punkt 4 = 750,

Aufgabe 3: Punkt 1 = 840, Punkt 2 = 500, Punkt 3 = 580, Punkt 4 = 970,

Aufgabe 4: Punkt 1 = 900, Punkt 2 = 940, Punkt 3 = 760, Punkt 4 = 650,