

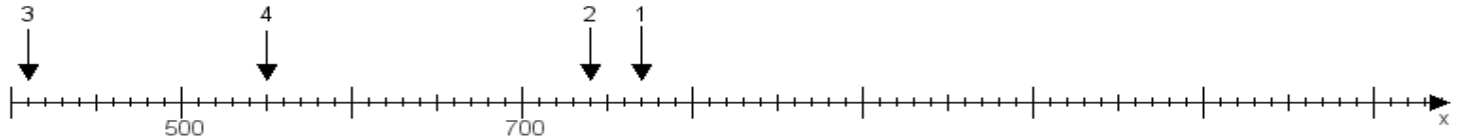
Name:

Klasse:

Datum:

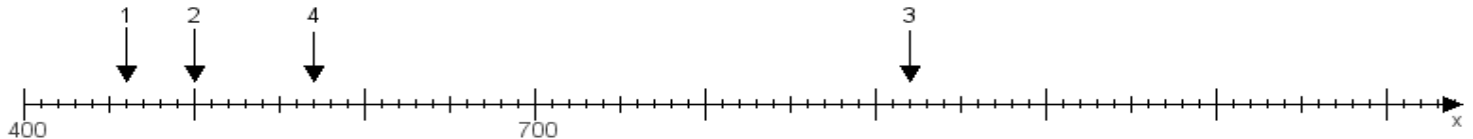
Aufgabe 1:

Ermittle die Werte von den Punkten 1 bis 4.



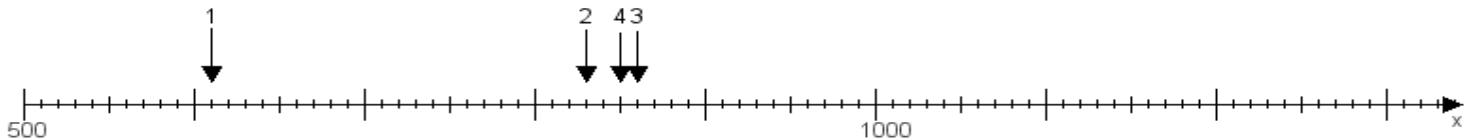
Aufgabe 2:

Ermittle die Werte von den Punkten 1 bis 4.



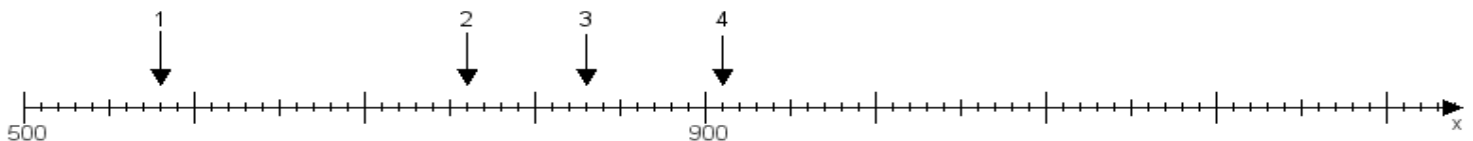
Aufgabe 3:

Ermittle die Werte von den Punkten 1 bis 4.



Aufgabe 4:

Ermittle die Werte von den Punkten 1 bis 4.



www.das-bastelteam.de -> Zahlenstrahl mit 4 Punkten. Blatt Nr.:468
Lösungen:

Aufgabe 1: Punkt 1 = 770, Punkt 2 = 740, Punkt 3 = 410, Punkt 4 = 550,

Aufgabe 2: Punkt 1 = 460, Punkt 2 = 500, Punkt 3 = 920, Punkt 4 = 570,

Aufgabe 3: Punkt 1 = 610, Punkt 2 = 830, Punkt 3 = 860, Punkt 4 = 850,

Aufgabe 4: Punkt 1 = 580, Punkt 2 = 760, Punkt 3 = 830, Punkt 4 = 910,