

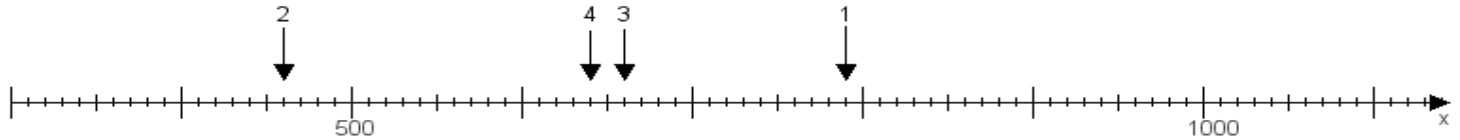
Name:

Klasse:

Datum:

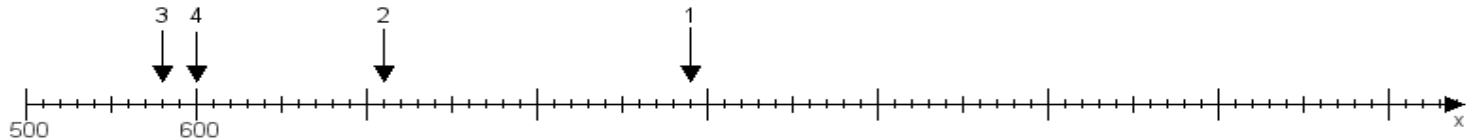
Aufgabe 1:

Ermittle die Werte von den Punkten 1 bis 4.



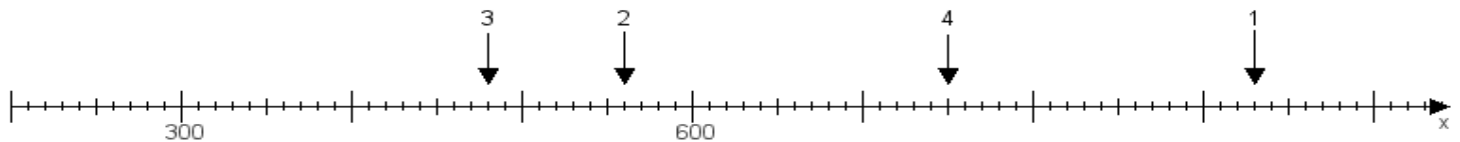
Aufgabe 2:

Ermittle die Werte von den Punkten 1 bis 4.



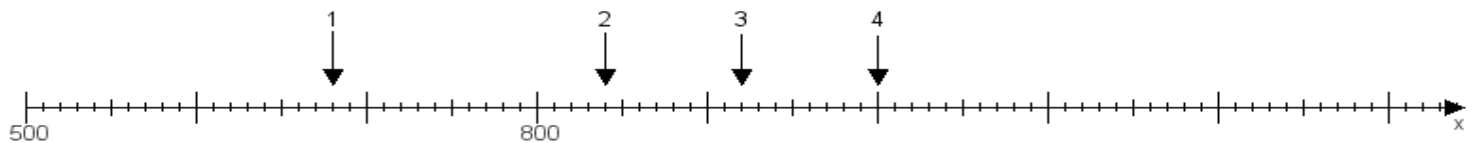
Aufgabe 3:

Ermittle die Werte von den Punkten 1 bis 4.



Aufgabe 4:

Ermittle die Werte von den Punkten 1 bis 4.



www.das-bastelteam.de -> Zahlenstrahl mit 4 Punkten. Blatt Nr.:467
Lösungen:

Aufgabe 1: Punkt 1 = 790, Punkt 2 = 460, Punkt 3 = 660, Punkt 4 = 640,

Aufgabe 2: Punkt 1 = 890, Punkt 2 = 710, Punkt 3 = 580, Punkt 4 = 600,

Aufgabe 3: Punkt 1 = 930, Punkt 2 = 560, Punkt 3 = 480, Punkt 4 = 750,

Aufgabe 4: Punkt 1 = 680, Punkt 2 = 840, Punkt 3 = 920, Punkt 4 = 1000,