

Im Zahlenbereich bis max. 1000.

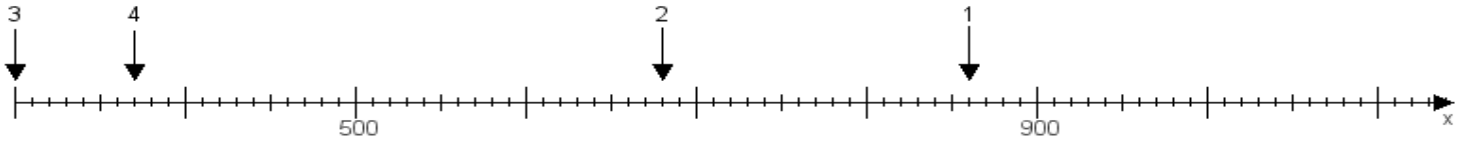
Name:

Klasse:

Datum:

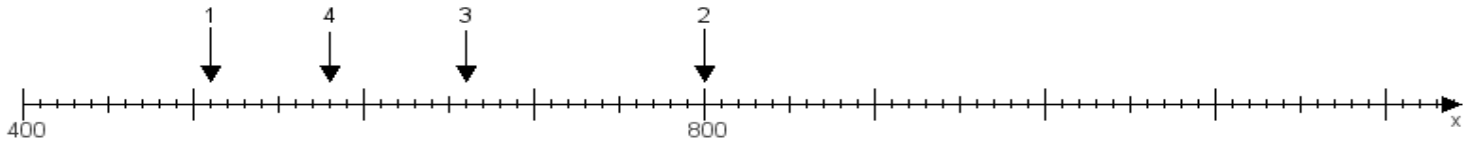
Aufgabe 1:

Ermittle die Werte von den Punkten 1 bis 4.



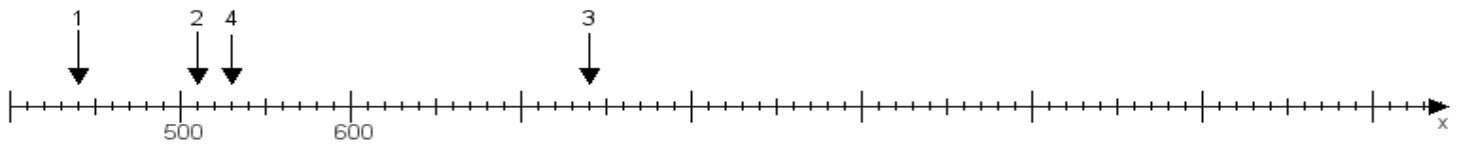
Aufgabe 2:

Ermittle die Werte von den Punkten 1 bis 4.



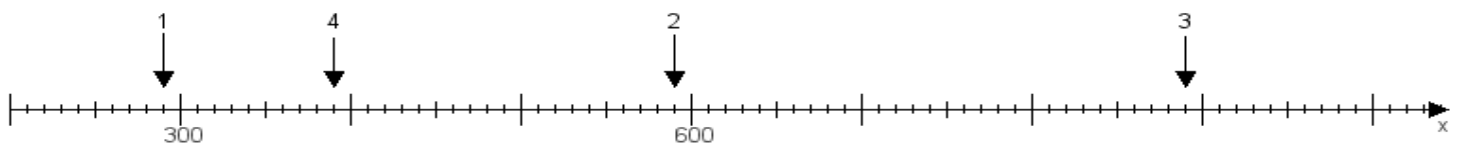
Aufgabe 3:

Ermittle die Werte von den Punkten 1 bis 4.



Aufgabe 4:

Ermittle die Werte von den Punkten 1 bis 4.



www.das-bastelteam.de -> Zahlenstrahl mit 4 Punkten. Blatt Nr.:466
Lösungen:

Aufgabe 1: Punkt 1 = 860, Punkt 2 = 680, Punkt 3 = 300, Punkt 4 = 370,

Aufgabe 2: Punkt 1 = 510, Punkt 2 = 800, Punkt 3 = 660, Punkt 4 = 580,

Aufgabe 3: Punkt 1 = 440, Punkt 2 = 510, Punkt 3 = 740, Punkt 4 = 530,

Aufgabe 4: Punkt 1 = 290, Punkt 2 = 590, Punkt 3 = 890, Punkt 4 = 390,