

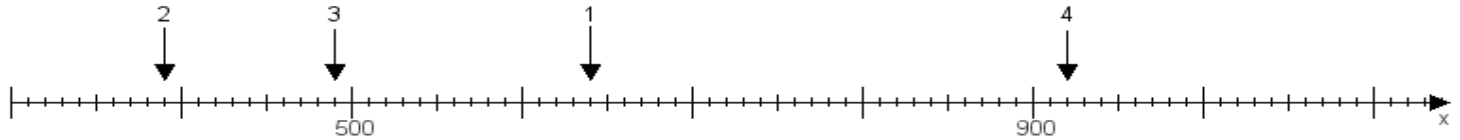
Name:

Klasse:

Datum:

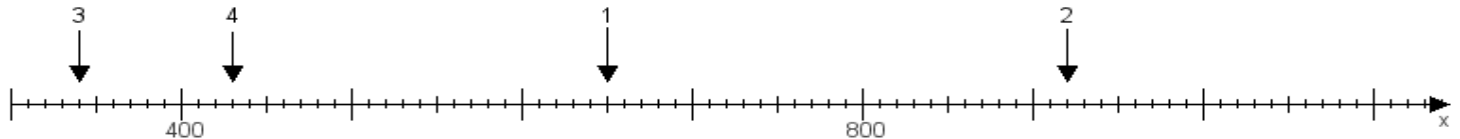
Aufgabe 1:

Ermittle die Werte von den Punkten 1 bis 4.



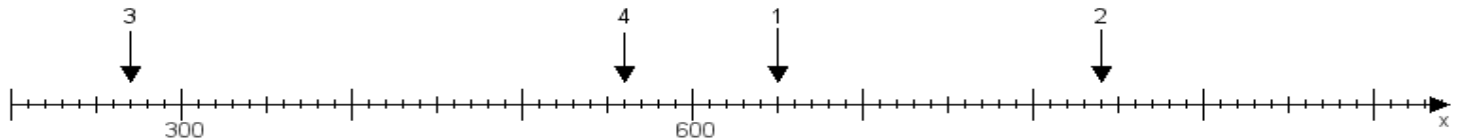
Aufgabe 2:

Ermittle die Werte von den Punkten 1 bis 4.



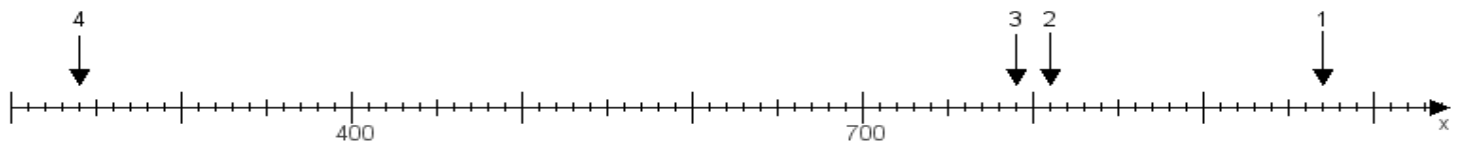
Aufgabe 3:

Ermittle die Werte von den Punkten 1 bis 4.



Aufgabe 4:

Ermittle die Werte von den Punkten 1 bis 4.



www.das-bastelteam.de -> Zahlenstrahl mit 4 Punkten. Blatt Nr.:465
Lösungen:

Aufgabe 1: Punkt 1 = 640, Punkt 2 = 390, Punkt 3 = 490, Punkt 4 = 920,

Aufgabe 2: Punkt 1 = 650, Punkt 2 = 920, Punkt 3 = 340, Punkt 4 = 430,

Aufgabe 3: Punkt 1 = 650, Punkt 2 = 840, Punkt 3 = 270, Punkt 4 = 560,

Aufgabe 4: Punkt 1 = 970, Punkt 2 = 810, Punkt 3 = 790, Punkt 4 = 240,