

Im Zahlenbereich bis max. 1000.

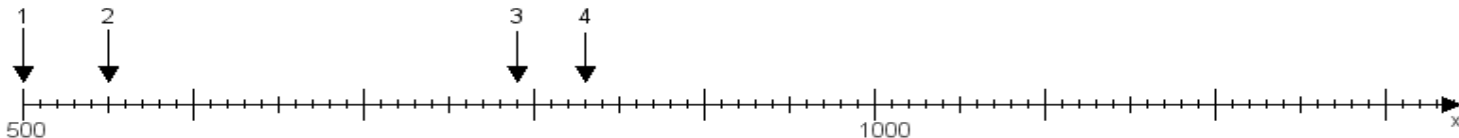
Name:

Klasse:

Datum:

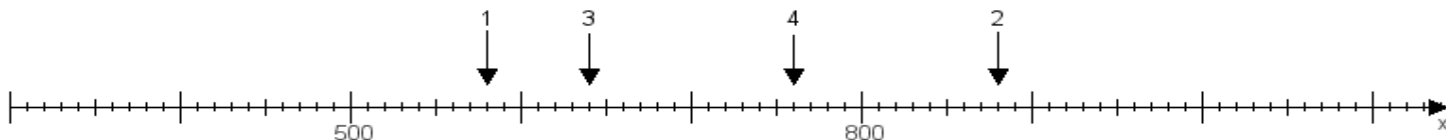
Aufgabe 1:

Ermittle die Werte von den Punkten 1 bis 4.



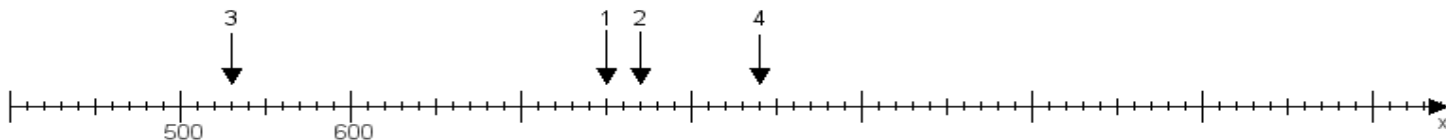
Aufgabe 2:

Ermittle die Werte von den Punkten 1 bis 4.



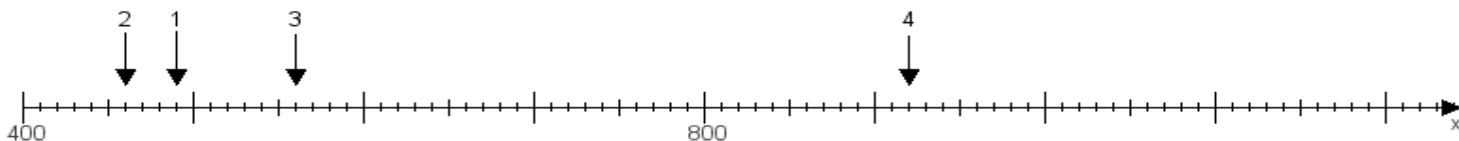
Aufgabe 3:

Ermittle die Werte von den Punkten 1 bis 4.



Aufgabe 4:

Ermittle die Werte von den Punkten 1 bis 4.



www.das-bastelteam.de -> Zahlenstrahl mit 4 Punkten. Blatt Nr.:463
Lösungen:

Aufgabe 1: Punkt 1 = 500, Punkt 2 = 550, Punkt 3 = 790, Punkt 4 = 830,

Aufgabe 2: Punkt 1 = 580, Punkt 2 = 880, Punkt 3 = 640, Punkt 4 = 760,

Aufgabe 3: Punkt 1 = 750, Punkt 2 = 770, Punkt 3 = 530, Punkt 4 = 840,

Aufgabe 4: Punkt 1 = 490, Punkt 2 = 460, Punkt 3 = 560, Punkt 4 = 920,