

Im Zahlenbereich bis max. 1000.

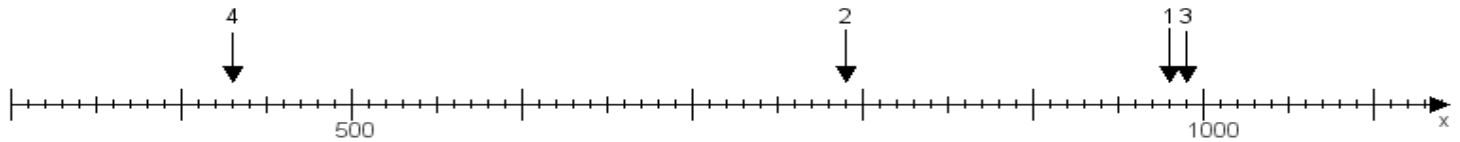
Name:

Klasse:

Datum:

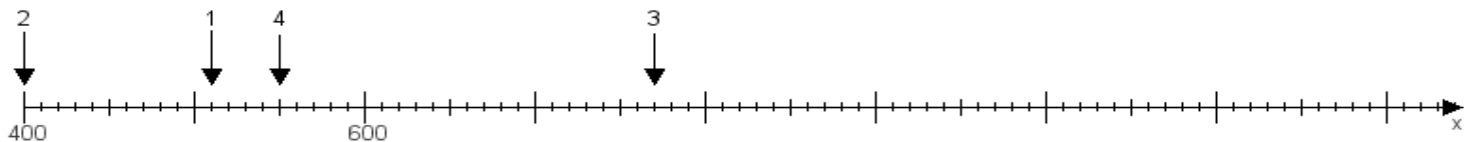
Aufgabe 1:

Ermittle die Werte von den Punkten 1 bis 4.



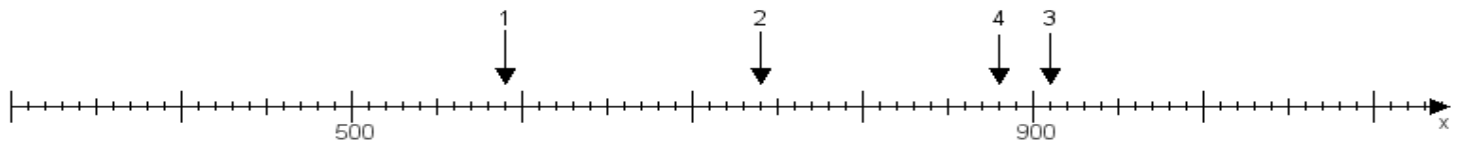
Aufgabe 2:

Ermittle die Werte von den Punkten 1 bis 4.



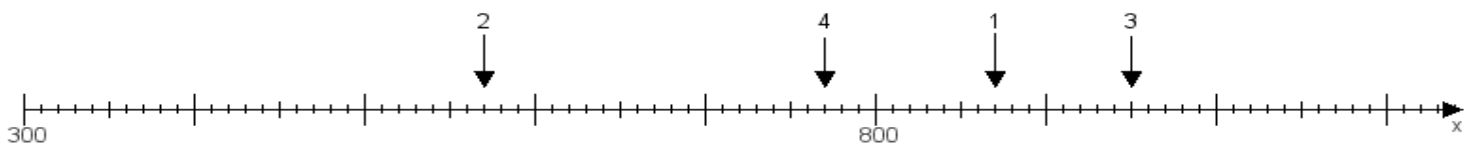
Aufgabe 3:

Ermittle die Werte von den Punkten 1 bis 4.



Aufgabe 4:

Ermittle die Werte von den Punkten 1 bis 4.



www.das-bastelteam.de -> Zahlenstrahl mit 4 Punkten. Blatt Nr.:460
Lösungen:

Aufgabe 1: Punkt 1 = 980, Punkt 2 = 790, Punkt 3 = 990, Punkt 4 = 430,

Aufgabe 2: Punkt 1 = 510, Punkt 2 = 400, Punkt 3 = 770, Punkt 4 = 550,

Aufgabe 3: Punkt 1 = 590, Punkt 2 = 740, Punkt 3 = 910, Punkt 4 = 880,

Aufgabe 4: Punkt 1 = 870, Punkt 2 = 570, Punkt 3 = 950, Punkt 4 = 770,