

Im Zahlenbereich bis max. 1000.

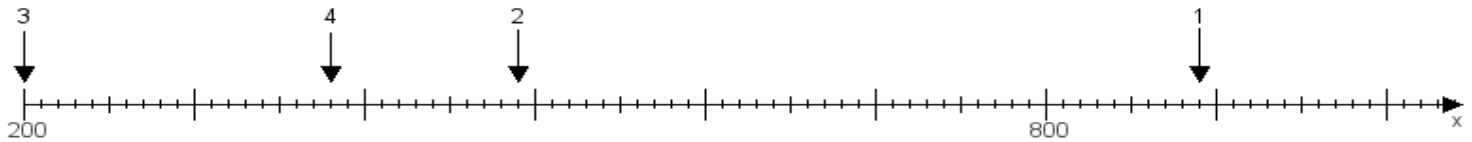
Name:

Klasse:

Datum:

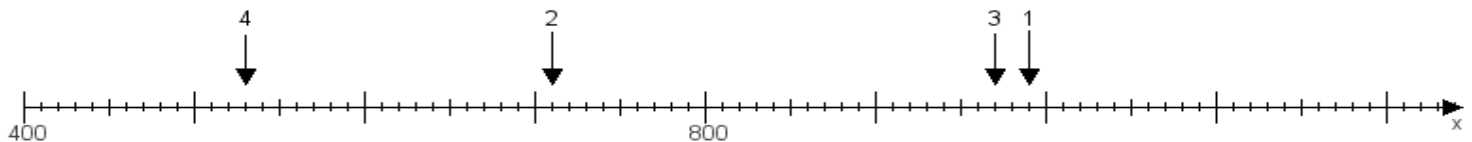
Aufgabe 1:

Ermittle die Werte von den Punkten 1 bis 4.



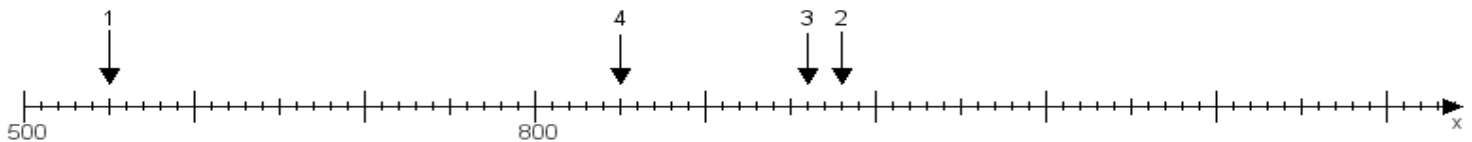
Aufgabe 2:

Ermittle die Werte von den Punkten 1 bis 4.



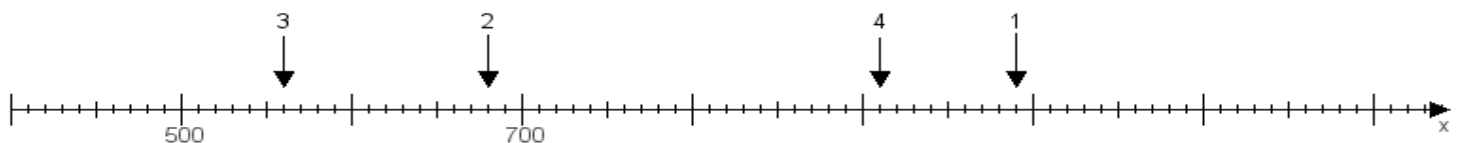
Aufgabe 3:

Ermittle die Werte von den Punkten 1 bis 4.



Aufgabe 4:

Ermittle die Werte von den Punkten 1 bis 4.



www.das-bastelteam.de -> Zahlenstrahl mit 4 Punkten. Blatt Nr.:45
Lösungen:

Aufgabe 1: Punkt 1 = 890, Punkt 2 = 490, Punkt 3 = 200, Punkt 4 = 380,

Aufgabe 2: Punkt 1 = 990, Punkt 2 = 710, Punkt 3 = 970, Punkt 4 = 530,

Aufgabe 3: Punkt 1 = 550, Punkt 2 = 980, Punkt 3 = 960, Punkt 4 = 850,

Aufgabe 4: Punkt 1 = 990, Punkt 2 = 680, Punkt 3 = 560, Punkt 4 = 910,