

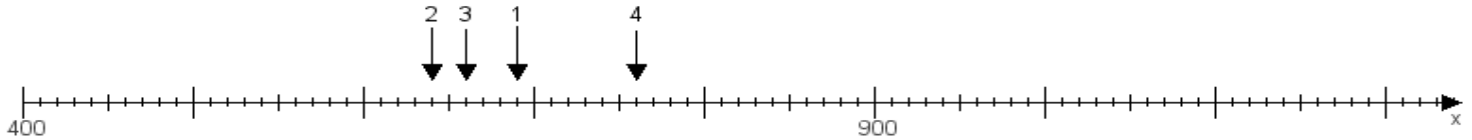
Name:

Klasse:

Datum:

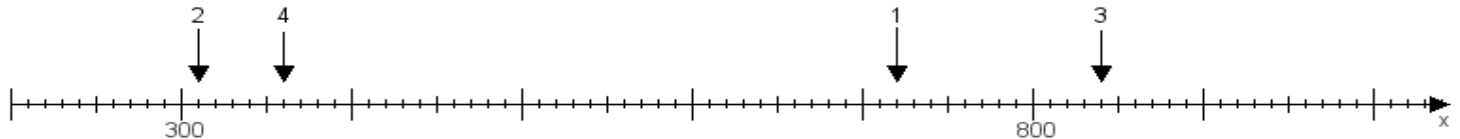
**Aufgabe 1:**

Ermittle die Werte von den Punkten 1 bis 4.



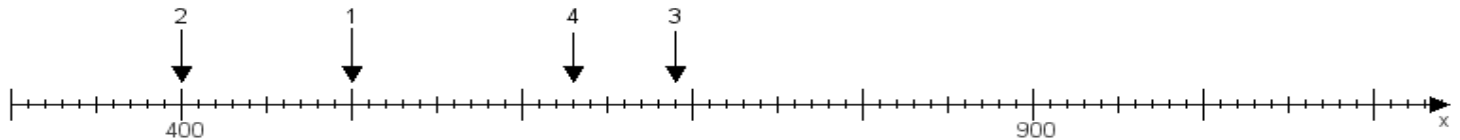
**Aufgabe 2:**

Ermittle die Werte von den Punkten 1 bis 4.



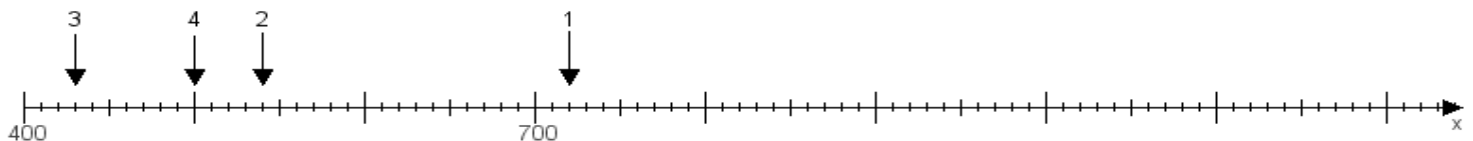
**Aufgabe 3:**

Ermittle die Werte von den Punkten 1 bis 4.



**Aufgabe 4:**

Ermittle die Werte von den Punkten 1 bis 4.



[www.das-bastelteam.de](http://www.das-bastelteam.de) -> Zahlenstrahl mit 4 Punkten. Blatt Nr.:457  
Lösungen:

Aufgabe 1: Punkt 1 = 690, Punkt 2 = 640, Punkt 3 = 660, Punkt 4 = 760,

Aufgabe 2: Punkt 1 = 720, Punkt 2 = 310, Punkt 3 = 840, Punkt 4 = 360,

Aufgabe 3: Punkt 1 = 500, Punkt 2 = 400, Punkt 3 = 690, Punkt 4 = 630,

Aufgabe 4: Punkt 1 = 720, Punkt 2 = 540, Punkt 3 = 430, Punkt 4 = 500,