

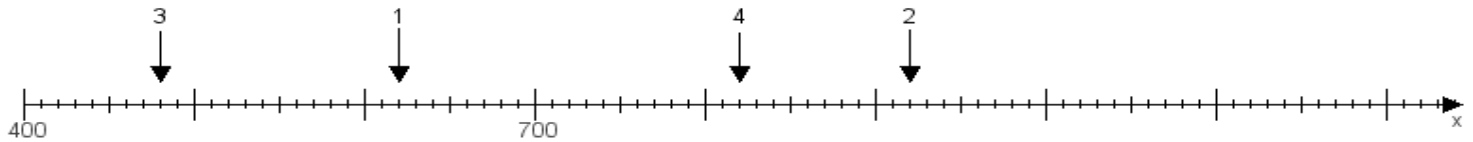
Name:

Klasse:

Datum:

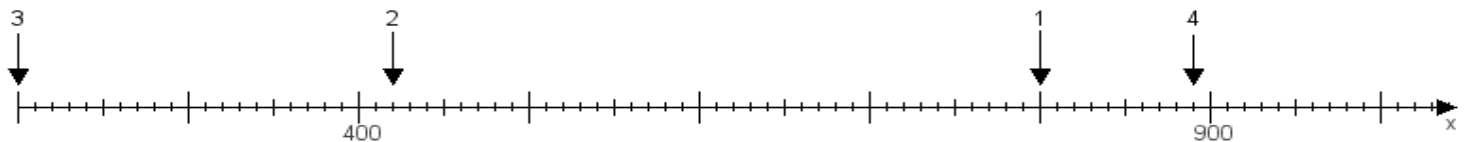
Aufgabe 1:

Ermittle die Werte von den Punkten 1 bis 4.



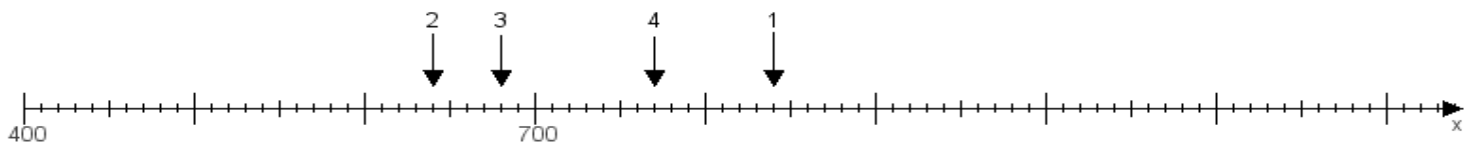
Aufgabe 2:

Ermittle die Werte von den Punkten 1 bis 4.



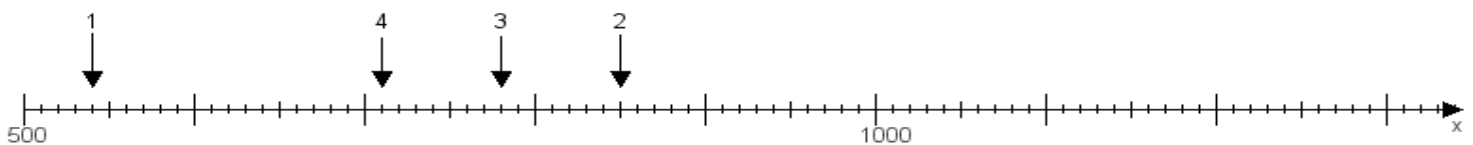
Aufgabe 3:

Ermittle die Werte von den Punkten 1 bis 4.



Aufgabe 4:

Ermittle die Werte von den Punkten 1 bis 4.



www.das-bastelteam.de -> Zahlenstrahl mit 4 Punkten. Blatt Nr.:454
Lösungen:

Aufgabe 1: Punkt 1 = 620, Punkt 2 = 920, Punkt 3 = 480, Punkt 4 = 820,

Aufgabe 2: Punkt 1 = 800, Punkt 2 = 420, Punkt 3 = 200, Punkt 4 = 890,

Aufgabe 3: Punkt 1 = 840, Punkt 2 = 640, Punkt 3 = 680, Punkt 4 = 770,

Aufgabe 4: Punkt 1 = 540, Punkt 2 = 850, Punkt 3 = 780, Punkt 4 = 710,