

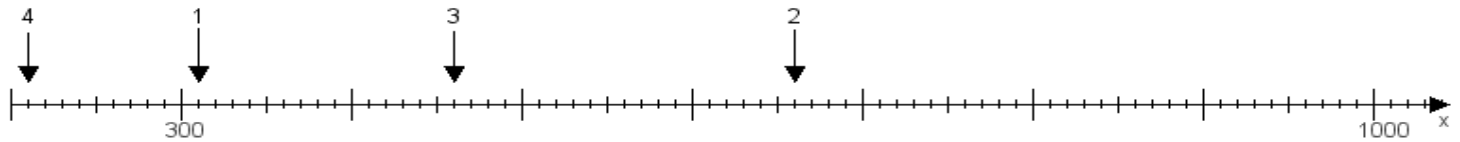
Name:

Klasse:

Datum:

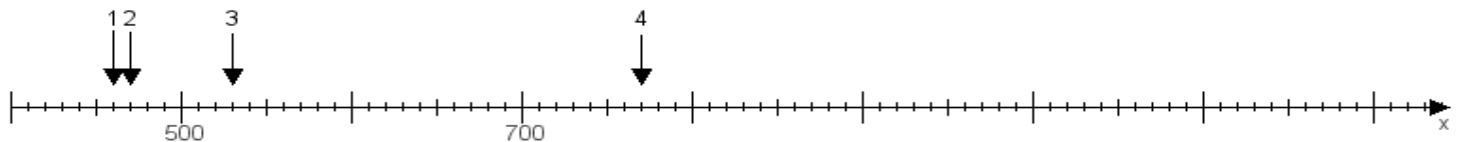
Aufgabe 1:

Ermittle die Werte von den Punkten 1 bis 4.



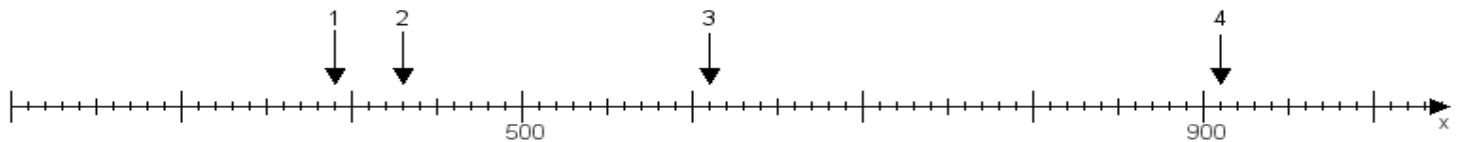
Aufgabe 2:

Ermittle die Werte von den Punkten 1 bis 4.



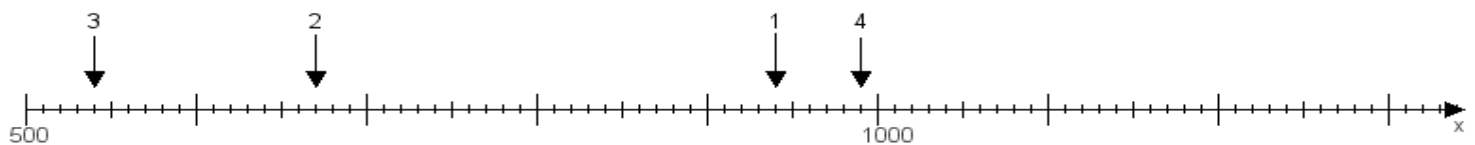
Aufgabe 3:

Ermittle die Werte von den Punkten 1 bis 4.



Aufgabe 4:

Ermittle die Werte von den Punkten 1 bis 4.



www.das-bastelteam.de -> Zahlenstrahl mit 4 Punkten. Blatt Nr.:44
Lösungen:

Aufgabe 1: Punkt 1 = 310, Punkt 2 = 660, Punkt 3 = 460, Punkt 4 = 210,

Aufgabe 2: Punkt 1 = 460, Punkt 2 = 470, Punkt 3 = 530, Punkt 4 = 770,

Aufgabe 3: Punkt 1 = 390, Punkt 2 = 430, Punkt 3 = 610, Punkt 4 = 910,

Aufgabe 4: Punkt 1 = 940, Punkt 2 = 670, Punkt 3 = 540, Punkt 4 = 990,